

دستخط نگران کار

Booklet Serial No.

## مولانا آزاد نیشنل اردو یونیورسٹی

انٹرنس ٹسٹ برائے ڈی ایل۔ ایڈ 2017

D. El.Ed. Entrance Test 2017

کتابچہ پرچہ سوالات Question Paper Booklet

نمبرات : 100

Hall Ticket No.

وقت : دو گھنٹے

OMR Serial No.

## امیدواروں کے لیے ہدایات

نوٹ: یہ کتابچہ چار حصوں پر مشتمل ہے۔ حصہ 'الف' (A) عام معلومات (General Knowledge) 'عمومی اردو' (General Urdu) 'عمومی انگریزی' (General English) اور حصہ 'ب' (B) تدریسی رجحان (Teaching Aptitude) اور عمومی ذہنی آزمائش (General Mental Ability) پر مشتمل ہے۔

1. اوپر فراہم کی گئی جگہ پر امیدوار اپنا OMR اور ہال ٹکٹ نمبر لکھیں۔ اس کے علاوہ کتابچے میں کسی بھی صفحے پر ہال ٹکٹ نمبر، OMR نمبر یا اپنا نام نہ لکھیں۔

2. یہ پرچہ سوالات کل 16 صفحات پر مشتمل ہے۔ آخر کے 4 صفحے Rough Work کے لیے ہیں۔ اگر اس کتابچے میں صفحات کم ہوں یا اس کی ترتیب میں کوئی غلطی ہو تو جوابات لکھنے سے پہلے ہی نگران کار سے اسے تبدیل کروالیں۔

3. اس کتابچے میں جملہ 100 معروضی سوالات ہیں۔ ہر سوال کے نیچے 4 متبادل (A) (B) (C) (D) جوابات دیے گئے ہیں۔ سوال کے صحیح جواب کا انتخاب کیجیے۔ پھر OMR جوابی بیاض میں اپنے منتخب کردہ جواب کے دائرے کو صرف Blue / Black Ballpoint Pen سے گہرا کیجیے۔

4. امیدوار کو نمبرات صرف OMR جوابی بیاض میں صحیح جواب دینے پر دیے جائیں گے۔ اگر اس کتابچے میں امیدوار نے جواب پر نشان لگایا ہو لیکن OMR میں دائرے کو گہرا نہ کیا ہو تو ایسی صورت میں امیدوار کو کوئی نمبر نہیں ملے گا۔

5. اگر ایک سے زیادہ دائروں کو گہرا کیا گیا ہو تو اس سوال کے نمبر نہیں ملیں گے۔

6. غلط جواب پر کوئی Negative Marks نہیں ہے۔

7. انٹرنس ٹسٹ کے اختتام پر امیدوار کتابچہ پرچہ سوالات اپنے ساتھ لے جاسکتے ہیں۔

☆☆☆

**حصہ الف (Part - A)**  
**عام معلومات - General knowledge**

1. ہندوستان کے پہلے وزیر تعلیم کون تھے؟  
(A) مولانا ابوالکلام آزاد (B) ڈاکٹر راجندر پرساد (C) ڈاکٹر ذاکر حسین (D) ڈاکٹر فخر الدین علی احمد
2. اقلیتوں کو ادارے قائم کرنے اور اسے چلانے کا حق ہندوستانی آئین کے کس دفعہ (Article) سے حاصل ہے؟  
(A) 28 (B) 29 (C) 30 (D) 31
3. سعودی عرب ملک کا طرز حکومت کیسا ہے؟  
(A) عامرانہ (B) جمہوری (C) ڈکٹیٹر شپ (D) بادشاہی
4. مولانا آزاد اردو یونیورسٹی کا قیام کس سال ہوا؟  
(A) 1998 (B) 1999 (C) 2000 (D) 2008
5. اقوام متحدہ (UNO) کا قیام کس جنگ کے بعد عمل میں آیا؟  
(A) انقلاب فرانس (B) انقلاب روس (C) جنگ عظیم اول (D) جنگ عظیم دوم
6. سرسید احمد خان نے مجنن اینگلو اور نیشنل کالج کب قائم کیا؟  
(A) 1872 (B) 1873 (C) 1875 (D) 1876
7. ہمارے ملک ہندوستان کے موجودہ نائب صدر جمہوریہ کون ہیں؟  
(A) شری ہاشم انصاری (B) شری محمد حامد انصاری (C) شری راجناتھ سنگھ (D) شری مختار عباس نقوی
8. کتاب ”شاہ نامہ“ کے مصنف کون ہیں؟  
(A) ابوالفضل (B) مولانا آزاد (C) فردوسی (D) علامہ اقبال
9. ذیل میں سے کون سی تصنیف سرسید احمد خاں کی ہے؟  
(A) اسباب بغاوت ہند (B) تاریخ فرشتہ (C) اکبر نامہ (D) غبار خاطر
10. NCTE کا پورا نام کیا ہے؟  
(A) National Council for Technical Education  
(B) New Council for Technical Education  
(C) New Concept for Teacher Education  
(D) National Council for Teacher Education

11. ہندوستان کا قومی پرندہ کون ہے؟  
 (A) مور (B) طوطا (C) کبوتر (D) ابا تیل
12. ذیل میں سے بیماریوں کا وہ گروپ چینیہ جو چھڑوں سے پھیلتا ہے؟  
 (A) ڈینگو، ملیریا، چکن گونیا (B) ملیریا، ہیضہ، میعادی بخار  
 (C) ملیریا، ڈینگو، ہیضہ (D) ملیریا، چکن گونیا، میعادی بخار
13. کس ملک کے سائنس دانوں نے سب سے پہلے ہائیڈروجن بم بنایا تھا؟  
 (A) جاپان (B) فرانس  
 (C) امریکہ (D) برطانیہ
14. وٹامن اے (Vitamin A) کی کمی سے کون سی بیماری ہوتی ہے؟  
 (A) ریکٹس (B) رتوندھی  
 (C) پیری پیری (D) فلیر یہ
15. ہندوستان میں کس کو میزائل مین (Missile Man) کے نام سے جانا جاتا ہے؟  
 (A) اے۔ پی۔ جے۔ عبدالکلام (B) ابوالکلام آزاد  
 (C) ایم۔ آر۔ سرینواسن (D) ہومی جے بھابھا
16. ارونا چل پردیش کی راجدھانی کون سی ہے؟  
 (A) امپھال (B) گواہاٹی  
 (C) اٹانگر (D) شیلانگ
17. دلی کا لال قلعہ کس مغل بادشاہ نے بنوایا؟  
 (A) اکبر (B) شاہجہاں  
 (C) جہانگیر (D) اورنگ زیب
18. ذیل میں سے کون سا سیارہ سورج کے سب سے نزدیک ہے؟  
 (A) نیپٹون (Neptune) (B) مریخ (Mars)  
 (C) یورینس (Uranus) (D) عطارد (Mercury)
19. راجیو گاندھی کھیل ایوارڈز 2016 ذیل میں سے کس کو دیا گیا؟  
 (A) سوہیل کمار (B) ایم۔ ایس۔ دھونی  
 (C) پی۔ وی۔ سندھو (D) ثانیہ مرزا
20. 2015 کا دادا صاحب پھالکے ایوارڈ کس کو دیا گیا؟  
 (A) دلپ کمار (B) منوج کمار  
 (C) لیش چوڑا (D) امتیا بھٹکن

## عمومی اردو - General Urdu

21. کلمہ کی کتنی قسمیں ہوتی ہیں؟  
 (A) 3 (B) 4 (C) 5 (D) 6
22. فعل کی جمع کیا ہے؟  
 (A) فاعل (B) افعال (C) فعلین (D) افعال
23. نعت کسے کہتے ہیں۔  
 (A) اللہ کی تعریف میں کہی گئی نظم (B) امام حسینؑ کی تعریف میں کہی گئی نظم  
 (C) بی بی فاطمہؑ کی تعریف میں کہی گئی نظم (D) حضور ﷺ کی تعریف میں کہی گئی نظم
24. ہمسایہ کے معنی کیا ہیں؟  
 (A) دشمن (B) پڑوسی (C) دوست (D) آدمی
25. ان میں سے کون اردو کے مشہور مرثیہ نگار ہیں؟  
 (A) میر انیس (B) سر سید احمد خان (C) منشی پریم چند (D) مرزا غالب
26. کبیر کی ضد کیا ہے؟  
 (A) اعلیٰ (B) ادنیٰ (C) صغیر (D) ان میں سے کوئی نہیں
27. مسدس میں کتنے مصرعے ہوتے ہیں؟  
 (A) 2 (B) 4 (C) 6 (D) 8
28. ”دور کے ڈھول سہانے لگتے ہیں“ اس کا کیا مطلب ہوتا ہے؟  
 (A) دور سے ہر چیز اچھی لگتی ہے (B) زندگی کا تجربہ کرنا  
 (C) احسان کر کے اسے جتنا نہیں چاہیے (D) کہیں کانہ رہنا
29. اندھیرا کا مترادف لفظ کیا ہے؟  
 (A) تاریکی (B) روشنی (C) مفلسی (D) ان میں سے کوئی نہیں
30. ”آتا ہے جھکو یاد گزرا ہوا زمانے“ اس جملے میں کون سا لفظ غلط استعمال ہوا ہے۔  
 (A) جھکو (B) ہوا (C) زمانے (D) گزرا

## General English - عمومی انگریزی

31. Find right meaning of 'Behaviour'.
- |             |                 |
|-------------|-----------------|
| A) conduct  | B) convey       |
| C) practice | D) departmental |
32. I saw a ..... of sheep grazing in the field.
- |          |         |
|----------|---------|
| A) group | B) herd |
| C) flock | D) pack |
33. He is my mother. Which is the wrong word?
- |           |                  |
|-----------|------------------|
| A) my     | B) He            |
| C) mother | D) None of these |
34. He is busy ..... his work.
- |          |         |
|----------|---------|
| A) in    | B) on   |
| C) about | D) with |
35. Sir C.V. Ramoan was an ..... scientist.
- |            |                      |
|------------|----------------------|
| A) eminent | B) imminent          |
| C) immense | D) None of the above |
36. The opposite of 'war' is.
- |             |                |
|-------------|----------------|
| A) struggle | B) battle      |
| C) peace    | D) tranquility |
37. He has lost ..... all sense of shame and decency.
- |         |       |
|---------|-------|
| A) for  | B) to |
| C) with | D) of |
38. Choose the correct synonym of the word 'Motion'.
- |             |           |
|-------------|-----------|
| A) movement | B) mobile |
| C) forward  | D) repose |
39. Who discovered America ..... put correct punctuation sign.
- |      |      |
|------|------|
| A) ? | B) ! |
| C) . | D) — |
40. A blindman can't distinguish light ..... darkness.
- |            |         |
|------------|---------|
| A) between | B) with |
| C) from    | D) to   |

**حصہ ب (Part - B)**  
**تدریسی رجحان - Teaching Aptitude**

41. ایک معلم کلاس میں اپنے طلباء کو اپنی طرف متوجہ نہیں کر پا رہا ہے تب وہ:
- (A) اپنے طریقہ تدریس کی جانچ کرے اور سدھار کرے (B) اپنے عہدہ سے استعفیٰ دے دے  
(C) اپنے طلباء کی کمیاں نکالے (D) املا لکھوانا شروع کر دے۔
42. اگر امتحان میں طلباء کو کامیابی نہیں ملتی ہے تو یہ کیس کی ہے؟
- (A) معلم کی (B) طلباء کی  
(C) درسی کتاب کی (D) ان میں سے سبھی
43. اگر کچھ طلباء اسکولی احاطہ میں آپ سے بدسلوکی کرتے ہیں تو آپ:
- (A) پرنسپل کو رپورٹ کریں گے (B) ان کے والدین کو رپورٹ کریں گے  
(C) ان طلباء کے خلاف دوسرے اساتذہ کو تیار کریں گے (D) اپنے کردار اور قابلیت کے ذریعہ ان کے کردار کو بہتر بنائیں گے
44. اگر طالب علم کے کسی سوال کا جواب معلم نہیں دے پا رہا ہو تب معلم۔
- (A) طالب علم کو ڈانٹ ڈپٹ کرے گا (B) کہیں گے۔ دیکھنے کے بعد جواب دیں گے  
(C) کہیں گے۔ کہ سوال غلط ہے (D) ان میں سے کوئی نہیں
45. کس طریقہ تدریس کے ذریعہ طلباء کی زیادہ سے زیادہ شراکت ممکن ہے؟
- (A) بیانیہ طریقہ (B) بحث و مباحثہ کا طریقہ  
(C) توضیح و تشریح کا طریقہ (D) ادارکاری کا طریقہ
46. تدریس کی موثریت کا انحصار ہوتا ہے؟
- (A) معلم کے مواد مضمون کے عبور پر (B) معلم کی قابلیت پر  
(C) معلم کی شخصیت پر (D) معلم کی لکھاؤٹ پر
47. آپ ایک اچھے استاد بننا چاہتے ہیں؟
- (A) روزی روٹی کمانے کے لیے (B) مسائل کا حل تلاش کرنے کے لیے  
(C) طلباء کو معلومات فراہم کرنے کے لیے (D) سماج کی اصلاح کرنے کے لیے
48. ایک اچھے سوالنامہ کی خصوصیات نہیں ہے۔
- (A) بھروسہ مندی (Reliability) (B) معروضیت (Objectivity)  
(C) موضوعیت (Subjectivity) (D) Validity

49. تدریس کا اہم مقصد ہے؟  
 (A) طلباء کے اندر قوت فکر پیدا کرنا  
 (B) طلباء کو اچھے نوٹس لکھنا  
 (C) امتحان میں پاس ہونے کا ہنر سکھانا  
 (D) نصاب سے متعلق معلومات فراہم کرنا
50. تعلیم کا بنیادی مقصد  
 (A) رجحان میں تبدیلی  
 (B) عقیدہ میں تبدیلی  
 (C) رویہ میں تبدیلی  
 (D) برتاؤ میں تبدیلی
51. بہتر تدریسی نتیجہ کے لیے ضروری ہے۔  
 (A) اجتماعی علمی سرگرمیاں  
 (B) تجزیاتی ذہن کا استعمال  
 (C) ذہانت کا بھرپور استعمال  
 (D) ان میں سے سبھی
52. معلم کی بنیادی ذمہ داری ہے؟  
 (A) ایک اچھا شہری بنانا  
 (B) سہولیات کی باعث بننا  
 (C) اچھے نمبرات کا فراہم کرنا  
 (D) فرد کی اعلیٰ تربیت
53. کس فلسفی نے معلم کو ایک مالی (Gardener) سے تعبیر کیا ہے؟  
 (A) فروبیل  
 (B) کلپاٹرک  
 (C) مانٹیسری  
 (D) گاندھی جی
54. طلباء کو محرک Motivate کرنے کا بہتر طریقہ ہے۔  
 (A) ٹوکنا  
 (B) غلطی بتانا  
 (C) تعریف کرنا  
 (D) ان میں سے کوئی نہیں
55. ایک تربیت یافتہ معلم ..... معیار کو اپناتا ہے۔  
 (A) تانا شاہی سماج کے  
 (B) جمہوری سماج کے  
 (C) آزادانہ سماج کے  
 (D) سبھی
56. ایک اچھا معلم فوجیت دیتا ہے۔  
 (A) وقت پر نصاب کی تکمیل کو  
 (B) نصاب اور ہم نصابی مشغولیت کی تکمیل کو  
 (C) طلباء سے ربط کو  
 (D) اسکول کی ضرورتوں کی تکمیل کو
57. معذور و غیر معذور طلباء کو ایک ساتھ تعلیم فراہم کرنا کہلاتا ہے۔  
 (A) تجزیاتی تعلیم  
 (B) سماجیاتی تعلیم  
 (C) جمہوری تعلیم  
 (D) شمولیاتی تعلیم

58. ایک اچھے معلم کو تدریس کے طریقہ کا علم ضروری ہے کیونکہ اس سے
- (A) تدریس موثر ہوتی ہے (B) تدریس آسان ہوتی ہے
- (C) تدریس کم وقت میں ہو جاتی ہے (D) طلباء میں نظم و ضبط برقرار رہتا ہے
59. طلباء معلم کی سب سے زیادہ عزت و احترام کریں گے جب:
- (A) وہ اپنی ذمہ داریوں کو پورا کرے (B) وہ جب نظم و ضبط قائم کرے
- (C) وہ طلباء پر غالب ہو (D) وہ طلباء کے ساتھ دوستانہ سلوک کرے۔
60. DIET مخفف ہے۔
- (A) Departmental Institute of Education & Training
- (B) District Institute of Education & Training
- (C) Director Institute of Education & Training
- (D) Divisional Institute of Education & Training
61. تربیت یافتہ معلم کو بھی دوران ملازمت تربیت کی ضرورت ہوتی ہے۔
- (A) نئے لوگوں سے ملاقات کرنے کے لیے (B) جدید تحقیق سے آگاہ ہونے کے لیے
- (C) اسکول سے چھٹی لینے کے لیے (D) ان میں سے سبھی
62. ایک اعلیٰ معلم وہ ہے جو:
- (A) اسکول میں پورا وقت دیتا ہو (B) نظم و ضبط کی پابندی کرتا ہو
- (C) طالب علم کو قیادت فراہم کرتا ہو (D) طلباء کی ہمہ جہت ترقی میں دلچسپی رکھتا ہو
63. سیکھنے کا بنیادی عنصر ہے۔
- (A) سیکھنے کے لیے آمادگی (B) محرکہ
- (C) سازگار ماحول (D) یہ سبھی
64. ان میں سے کس کے بارے میں ”وردھا تعلیمی کانفرنس“ نے سفارش کیا تھا؟
- (A) تعلیم نسواں (B) لازمی فوجی تعلیم
- (C) ابتدائی تعلیم کرافٹ کے ساتھ (D) ان میں سے کوئی نہیں
65. ہندوستان میں RTE کا نفاذ عمل میں آیا۔
- (A) یکم اپریل 2010 (B) یکم جولائی 2009
- (C) یکم جولائی 2012 (D) یکم اپریل 2012



66. ہندوستانی آئین میں دفعہ 45 کا تعلق ہے۔  
 (A) 6 سے 14 سال کے عمر کے سبھی بچوں کے لیے مفت تعلیم (B) سبھی شہریوں کے لیے مفت علاج  
 (C) A اور B دونوں (D) ان میں سے کوئی نہیں
67. معلم کو طلباء کے ساتھ کیسا برتاؤ کرنا چاہیے۔  
 (A) حسب معمول (B) والد کی طرح  
 (C) دوستانہ (D) بڑوں کی طرح
68. ایک اچھا معلم وہ ہے جس کے پاس علم ہو۔  
 (A) مضمون کا (B) سماج کا  
 (C) طلباء کا (D) ان سبھی کا
69. بچہ کا پہلا اسکول ہوتا ہے؟  
 (A) فیملی (Family) (B) دوست  
 (C) سماج (D) اسکول
70. تعلیم بذریعہ کھیل کورانج کیا۔  
 (A) روسونے (B) فروتیل  
 (C) گاندھی جی (D) علامہ اقبال نے

### عمومی ذہنی آزمائش - (General Mental Ability)

- I اعداد کی سیریز کو مکمل کیجیے۔
71. 3, 5, 8, 12 .....  
 (A) 17 (B) 16 (C) 19 (D) 20
72. 7, 9, 12, 16 .....  
 (A) 22 (B) 21 (C) 19 (D) 20
73. 384, 192, 96, 48 .....  
 (A) 36 (B) 24 (C) 28 (D) 32
- II سوالیہ علامت کی جگہ پر مناسب ترین لفظ لکھیے۔
74. ....؟ کھلاڑی :: گلدان : گل  
 (A) کھیل (B) میدان (C) کیپٹن (D) ٹیم

75. ....؟ برف :: گرمی : آگ  
(A) ٹھنڈا (B) بارش (C) بادل (D) ان میں سے کوئی نہیں

76. ....؟ درزی :: : لکڑی : بڑھی  
(A) سلائی (B) کپڑا (C) لباس (D) سجاوٹ

### -III صحیح رشتہ پہچانیے۔

77. فرقان نے ایک تصویر کو دیکھا تو کہا کہ ”اس لڑکے کا والد میری ماں کا اکلوتا بیٹا ہے“ بتائے تصویر میں کون ہے؟  
(A) فرقان (B) فرقان کا بھائی (C) فرقان کے والد (D) فرقان کا بیٹا

78. A اور B 'C کے بچے ہیں اور B, C کا والد ہے لیکن B 'C کا بیٹا نہیں ہے۔ B اور C میں کیا رشتہ ہے  
(A) بیٹی اور باپ (B) بھائی اور بہن (C) بھتیجہ اور چاچا (D) بھتیجی اور چاچا

79. میرے چاچا کی والدہ کے شوہر سے میرا کیا رشتہ ہوگا؟  
(A) نانا (B) چاچا (C) دادا (D) ماما

### IV غیر متعلق لفظ شناخت کیجیے۔


80. (A) یورینس (B) چاند (C) مرکوری (D) نیپچون  
81. (A) سمنٹ (B) بالو (C) اینٹ (D) دیوار  
82. (A) آنکھ (B) کان (C) حلق (D) ناک  
83. (A) حیدرآباد (B) امرتسر (C) بھوپال (D) لکھنؤ

### -V مطلب بیان کیجیے۔

84. عیدالاضحیٰ میں کتنے حروف ساکن ہیں؟

(A) 1 (B) 2 (C) 3 (D) 4

85. معلم اور طالب علم انسان ہیں۔ اس کو ظاہر کرنے والی شکل کون سی ہے؟



-VI وہ عدد کون سا؟

.86 350 سنٹی میٹر کو میٹر میں کیسے لکھیں گے؟

(A) 3.5 میٹر (B) 3.50 میٹر (C) .325 میٹر (D) 0.0325 میٹر

.87 500 کا 2.5 فیصد کتنا ہوگا؟

(A) 10.5 (B) 12.5 (C) 2.25 (D) 2.5

.88 2/5 میٹر کو سینٹی میٹر میں بدلنے پر

(A) 40 (B) 45 (C) 50 (D) 55

-VIII درج ذیل حالات میں آپ کیا کریں گے؟

.89 اگر کسی چور نے آپ کا پرس چوری کر لیا تو

(A) وہیں چیخ پکار کریں گے (B) خاموشی سے وہاں سے چلے جائیں گے

(C) فوراً پولیس کو اطلاع کریں گے (D) ان میں سے کچھ بھی نہیں کریں گے

.90  $5x + 7x = 60$  ہو تو X کی قیمت کیا ہوگی؟

(A) 4 (B) 5 (C) 6 (D) 7

.91 چونکہ ان میں مناسب علامت لکھیے۔

$$(24 + 3) \div 9 \square (3 \times 2)$$

(A) &gt; (B) &lt; (C) = (D) ان میں سے کوئی نہیں

.92  $(? \div 3) \times 5 = 60$ 

(A) 33 (B) 12 (C) 22 (D) 36

.93 ناہید ایک دن میں 12 گلاس پانی پیتی ہے۔ اگر ایک گلاس میں 250 ملی لیٹر پانی آتا ہے تو وہ 30 دنوں میں کتنے لیٹر پانی

پی لے گی؟

(A) 70 لیٹر (B) 65 لیٹر (C) 90 لیٹر (D) 75 لیٹر

$$2 + 2 \div 2 = \square$$

(A) 1 (B) 2 (C) 3 (D) 4

ذیل کے جملے مکمل کیجیے:

.95 نہ نومن تیل ہوگا نہ رادھا.....؟

(A) ناچے گی (B) کھائیں گی (C) گائے گی (D) پکائے گی

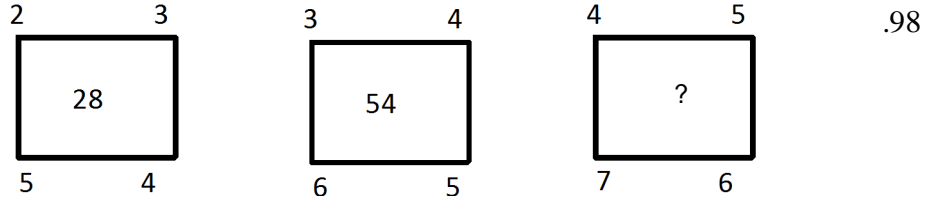
96. نیکی کر دیا میں .....؟

- (A) پھینک (B) رکھ (C) ڈال (D) بہا

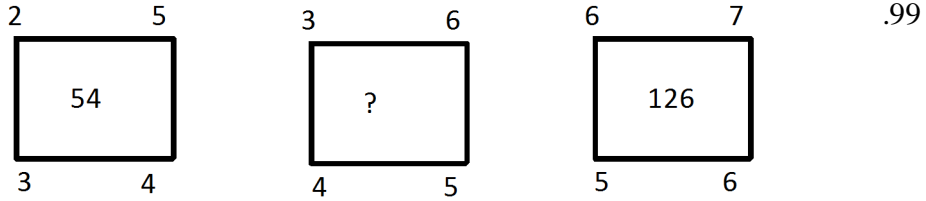
97. گھر کی مرغی دال .....؟

- (A) کی طرح (B) برابر (C) جیسی (D) ان میں سے کوئی نہیں

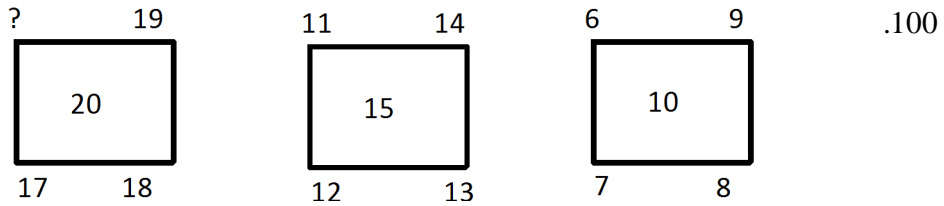
IX ذیل کے مربعوں کے باہر لکھے ہوئے چار اعداد کا مربع کے اندر لکھے ہوئے عدد سے خاص تعلق ہے۔ اس تعلق کی بنیاد پر سوالیہ نشان کی جگہ کون سا عدد آئے گا۔



- 94 (D) 92 (C) 90 (B) 88 (A)



- 88 (D) 86 (C) 84 (B) 82 (A)



- 16 (D) 14 (C) 12 (B) 10 (A)

**Rough Work**

**Rough Work**

**Rough Work**

**Rough Work**