

دستخط نگران کار

Booklet Serial No.

مولانا آزاد نیشنل اردو یونیورسٹی

انٹرنس ٹسٹ برائے ڈی ایل۔ ایڈ 2022

D. El.Ed. Entrance Test 2022

کتابچہ پرچہ سوالات Question Paper Booklet

نمبرات : 100

Hall Ticket No.

وقت : دو گھنٹے

OMR Serial No.

امیدواروں کے لیے ہدایات

نوٹ: یہ کتابچہ چار حصوں پر مشتمل ہے۔ حصہ الف (A) عام معلومات (General Knowledge)، عمومی اردو (General Urdu)، عمومی انگریزی (General English) اور حصہ ب (B) تدریسی رجحان (Teaching Aptitude) اور عمومی ذہنی آزمائش (General Mental Ability) پر مشتمل ہے۔

1. اوپر فراہم کی گئی جگہ پر امیدوار اپنا OMR اور ہال ٹکٹ نمبر لکھیں۔ اس کے علاوہ کتابچے میں کسی بھی صفحے پر ہال ٹکٹ نمبر، OMR نمبر یا اپنا نام نہ لکھیں۔
2. یہ پرچہ سوالات کل 16 صفحات پر مشتمل ہے۔ آخر کا ایک صفحہ Rough Work کے لیے ہے۔ اگر اس کتابچے میں صفحات کم ہوں یا اس کی ترتیب میں کوئی غلطی ہو تو جوابات لکھنے سے پہلے ہی نگران کار سے اسے تبدیل کروالیں۔
3. اس کتابچے میں جملہ 100 معروضی سوالات ہیں۔ ہر سوال کے نیچے 4 متبادل (A) (B) (C) (D) جوابات دیے گئے ہیں۔ سوال کے صحیح جواب کا انتخاب کیجیے۔ پھر OMR جوابی بیاض میں اپنے منتخب کردہ جواب کے دائرے کو صرف Blue / Black Ballpoint Pen سے گہرا کیجیے۔

4. امیدوار کو نمبرات صرف OMR جوابی بیاض میں صحیح جواب دینے پر دیے جائیں گے۔ اگر اس کتابچے میں امیدوار نے جواب پر نشان لگایا ہو لیکن OMR میں دائرے کو گہرا نہ کیا ہو تو ایسی صورت میں امیدوار کو کوئی نمبر نہیں ملے گا۔
5. اگر ایک سے زیادہ دائروں کو گہرا کیا گیا ہو تو اس سوال کے نمبر نہیں ملیں گے۔
6. غلط جواب پر کوئی Negative Marks نہیں ہے۔
7. انٹرنس ٹسٹ کے اختتام پر امیدوار کتابچہ پرچہ سوالات اپنے ساتھ لے جاسکتے ہیں۔

☆☆☆

حصہ الف (Part - A)
عام معلومات - General knowledge

- 1- سکھ مذہب کے آخری گرو کون تھے؟
- (A) گرو نانک (B) گروارجن دیو
(C) گرو گوند سنگھ (D) گرو تیگ بہادر
- 2- تاج محل کی ڈیزائن کس کے ذریعے تیار کی گئی؟
- (A) استاد اسماعیل (B) استاد اسحق
(C) استاد عیسیٰ (D) استاد شاہ عباس
- 3- اکبر نے کس محل کی تعمیر فتح پور سیکری میں کرائی تھی؟
- (A) موتی محل (B) پنج محل
(C) رنگ محل (D) ہیرا محل
- 4- آریہ سماج کی تشکیل کس کے ذریعے کی گئی؟
- (A) سوامی دیانند سرسوتی (B) سوامی برہمانند سرسوتی
(C) سوامی دیویکانند (D) راجہ رام موہن رائے
- 5- بھارت میں انگریزی تعلیم کی شروعات کس کے ذریعے کی گئی؟
- (A) کارن والیس (B) ڈلہوجی
(C) کرجن (D) میکالے
- 6- بھارت کی سب سے بڑی مصنوعی جھیل کون سی ہے؟
- (A) راجا بھوج ساگر (B) گوویند بلبھ پنت ساگر
(C) حسین ساگر (D) اروند ساگر
- 7- رقبہ کے لحاظ سے بھارت کی سب سے بڑی ریاست درج ذیل میں سے کون سی ہے؟
- (A) ہریانہ (B) پنجاب
(C) راجستھان (D) مدھیہ پردیش

- 8- آبادی کے لحاظ سے سب سے زیادہ کثافت والا ملک درج ذیل میں کون سا ہے؟
- (A) بھارت (B) پاکستان
(C) بنگلہ دیش (D) نیپال
- 9- بھارت میں ریشم کی پیداوار سب سے زیادہ کس ریاست میں ہوتی ہے؟
- (A) کرناٹک (B) مہاراشٹر
(C) اتر پردیش (D) بہار
- 10- گرین ویج خط کس ملک میں ہے؟
- (A) امریکہ (B) برطانیہ
(C) جرمنی (D) فرانس
- 11- بھارت کی کس ریاست میں انسانی فروغ کا اشاریہ سب سے زیادہ ہے؟
- (A) کیرلا (B) پنجاب
(C) گجرات (D) مہاراشٹر
- 12- انسانی فروغ کا اشاریہ کس ماہر معاشیات نے تیار کیا تھا؟
- (A) پروفیسر امرتیہ سین (B) ڈاکٹر من موہن سنگھ
(C) محبوب الحق (D) سی۔ کے۔ مہتا
- 13- درج ذیل میں کون سا بھارت کا مرکزی بینک ہے؟
- (A) اورسینز بینک آف انڈیا (B) سینٹرل بینک آف انڈیا
(C) اسٹیٹ بینک آف انڈیا (D) ریزرو بینک آف انڈیا
- 14- پلچھی کی پیداوار کس ملک میں سب سے زیادہ ہوتی ہے؟
- (A) بھارت (B) چین
(C) روس (D) امریکہ
- 15- ہندوستان کا مالیاتی سال کب سے کب تک ہوتا ہے؟
- (A) 01 جنوری سے 31 دسمبر (B) 01 اگست سے 31 جولائی تک
(C) 01 جولائی سے 30 جون تک (D) 01 اپریل سے 31 مارچ تک

- 16- درج ذیل میں سے کس شخص نے تینوں گول میز کانفرنس میں شرکت کی؟
- (A) مولانا برکت اللہ بھوپالی نے
(B) ڈاکٹر بھیم راؤ امبیڈکر نے
(C) مہاتما گاندھی نے
(D) لالہ لاجپت رائے نے
- 17- بھگت سنگھ کے گاؤں کا کیا نام ہے؟
- (A) لال کلاں
(B) کھنکر کلاں
(C) سہاول کلاں
(D) پنچوپور
- 18- اتر اٹھنڈ کے موجودہ وزیر اعلیٰ کا نام کیا ہے؟
- (A) پشکر سنگھ دھامی
(B) تریویندر سنگھ راوت
(C) تیرتھ سنگھ راوت
(D) ہریش راوت
- 19- سری لنکا کے مستعفی وزیر اعظم کون ہیں؟
- (A) سارٹھ ویسیکھرا
(B) اُدیا گمن پلا
(C) مہنداراج پکسے
(D) مہندرا امرویرا
- 20- کملا حارث کون ہیں؟
- (A) روس میں بھارت کی امیسڈر
(B) برطانیہ کی ماہر معاشیات
(C) بھارت کی خلا باز خاتون
(D) امریکہ کی موجودہ نائب صدر

عمومی اردو (Genral Urdu)

- 21- نظم کی جس صنف میں کسی کی تعریف یا عظمت بیان کی جاتی ہے، اسے کیا کہتے ہیں؟
- (A) حمد
(B) نعت
(C) منقبت
(D) قصیدہ
- 22- درج ذیل میں کس لفظ کا املا درست ہے؟
- (A) ہتھی لی
(B) ہتھی لی
(C) ہتھیلی
(D) ہتھیلی

- 23- درج ذیل میں کون سا جملہ درست ہے؟
- (A) بولنا چاندھی ہے تو خاموشی سونا ہے۔
(B) بولنا چاندھی ہے تو خاموشی سونا ہے۔
(C) بولنا چاندھی ہے طو خاموشی شو نا ہے۔
(D) بولنا چاندھی ہے تو کھا موٹی سونا ہے۔
- 24- درج ذیل میں کس جملے میں املا کی غلطی نہیں ہے؟
- (A) خورشید میراجگری دوست ہے۔
(B) خورشید میرا ڈگری دوست ہے۔
(C) خورشید میراجگری دوست ہے۔
(D) خورشید میراجگری دوست ہے۔
- 25- سننے والے لگروہ کو اردو زبان میں کیا کہتے ہیں؟
- (A) ناظرین
(B) سامعین
(C) قارئین
(D) مقرر
- 26- وہ تم، آپ، وغیرہ یہ سب کس کی مثالیں ہیں؟
- (A) اسم
(B) ضمیر
(C) ضمیر صفت
(D) ضمیر فعل
- 27- 'احمد سائیکل سے اسکول جاتا ہے۔' اس جملے میں کون سا لفظ فاعل ہے؟
- (A) احمد
(B) سائیکل
(C) اسکول
(D) جانا
- 28- 'لاغر' کی ضد کیا ہے؟
- (A) فرہ
(B) نرغہ
(C) کمزور
(D) لمبا
- 29- ماہنامہ 'اردو دنیا' کی اشاعت کس ادارے سے ہوتی ہے؟
- (A) قومی کونسل برائے تعلیم، تربیت و تحقیق، نئی دہلی۔
(B) دارالمصنفین شبلی اکیڈمی، اعظم گڑھ۔
(C) مولانا آزاد نیشنل اردو یونیورسٹی، حیدرآباد۔
(D) قومی کونسل برائے فروغ اردو زبان، نئی دہلی۔
- 30- 'جنگ تو خود ہی ایک مسئلہ ہے۔ جنگ کیا مسئلوں کا حل دے گی' یہ شعر کس شاعر کی نظم کا ہے؟
- (A) الطاف حسین حالی
(B) کیفی اعظمی
(C) ساحر لدھیانوی
(D) نظیر اکبر آبادی

(General English) عمومی انگریزی

Fill in the blanks with correct words.

31. Shenot enjoy the game.

- A) do
B) does
C) did
D) has

32. He.....gone to school.

- A) had
B) did
C) is
D) will

33. Zaid does not

- A) plays well.
B) play well
C) played well
D) playing well.

34. This cup is dirty. Can Ia clean one?

- A) took
B) had
C) am
D) have

35. I want to wash my hair. Is thereshampoo?

- A) a
B) an
C) any
D) anyone

36. Azhar lives.....near Hyderabad

- A) somewhere
B) something
C) nowhere
D) anywhere

37. Find correctly spelt word.

- A) simultaneous
B) saimultaneous
C) simultanious
D) simultaeneous

38. Opposite word of SELDOM is

- A) sometime
B) never
C) rarely
D) often

39. Synonym of the word PITY is
- A) kindness B) dirty
C) poor D) mercy
40. The action of looking within or into one's own mind is called.....
- A) introspection B) introvert
C) examination D) observation

حصہ (Part-B)

تدریسی رجحان (Teaching Aptitude)

- 41۔ طلباء سب سے زیادہ اس وقت سیکھتے ہیں جب وہ -----
- (A) غور سے سنتے ہیں۔
(B) غور سے دیکھتے ہیں۔
(C) تدریسی سرگرمیوں میں فعال شرکت کرتے ہیں۔
(D) اپنا پسندیدہ مضمون پڑھتے ہیں۔
- 42۔ اگر طلباء آپ کی تدریس میں عدم دلچسپی رکھتے ہیں تو بطور معلم آپ کا رد عمل کیا ہونا چاہئے؟
- (A) طلباء کو سبق کی اہمیت سے باخبر کریں گے۔
(B) سکون و اطمینان سے بچوں کو سمجھائیں گے کہ وہ اپنا رویہ درست کر لیں۔
(C) اپنے تدریسی لائحہ عمل کو مزید دلچسپ بنانے کی کوشش کریں گے۔
(D) عدم دلچسپی کی وجہ جاننے کی کوشش کریں گے اور اسے دور کریں گے۔
- 43۔ اکتسابی عمل میں معلم کا کردار ----- کا ہونا چاہئے۔
- (A) تشہیل کار
(B) قائد
(C) منتظم
(D) امیر
- 44۔ تدریسی پیشے کی کامیابی کا انحصار ----- پر ہے۔
- (A) طلباء کو خوش رکھنے
(B) انتظامیہ سے بہتر تعلق قائم کرنے
(C) طلباء اور معلم دونوں کے فروغ
(D) معلم کی روحانی نشوونما
- 45۔ تدریس سے پہلے معلم کو -----
- (A) تدریسی مقاصد کی شناخت کرنا چاہئے۔
(B) تدریسی اشیاء تیار کرنا چاہئے۔
(C) طلباء کی سابقہ معلومات کی جانچ کرنا چاہئے۔
(D) منصوبہ سبق تیار کرنا چاہئے۔

- 46- تدریس کا حتمی مقصد کیا ہے؟
- (A) تاحیات متعلم بنانا
(B) امتحان میں اچھے نمبرات حاصل کرنا
(C) نصاب کو مکمل کرنا
(D) طلباء کو ملازمت کے لیے تیار کرنا
- 47- ایک معلم کو اپنے خالی اوقات کا بہترین استعمال کس طرح کرنا چاہئے؟
- (A) کوچنگ میں پڑھا کر۔
(B) دوسرے اسکول کے بچوں کو ٹیوشن پڑھا کر۔
(C) کاپی کتاب کی تجارت کر کے۔
(D) مطالعہ اور تحقیق کر کے۔
- 48- موجودہ دور میں تدریس میں ٹکنالوجی کا استعمال کیوں ضروری ہو گیا ہے؟
- (A) تعلیم کے معیار کو اونچا اٹھانے کے لیے۔
(B) اس زمانے میں ٹکنالوجی سے گریز نہیں کر سکتے۔
(C) تدریس و آموزش کو موثر بنانے کے لیے۔
(D) معلم کے کام کو آسان کرنے کے لیے۔
- 49- معلم کو اپنے مضمون پر عبور کے ساتھ ساتھ حالات حاضرہ کا بھی علم ہونا چاہئے۔ اس سے۔۔۔۔۔
- (A) دیگر مضامین سے ہم رنگی قائم کی جاسکتی ہے۔
(B) طلباء مرعوب ہوتے ہیں۔
(C) صدر مدرس بننے کا موقع ملتا ہے۔
(D) ہر کاران معلمین مرعوب ہوتے ہیں۔
- 50- معلم کے لیے سب سے قیمتی چیز کیا ہے؟
- (A) اس کی ملازمت
(B) سماج میں عزت اور عظمت
(C) طلباء کی کارکردگی میں اضافہ
(D) تدریس کو موثر بنانا
- 51- تدریسی مسائل کو حل کرنے کی ذمہ داری کس کی ہے؟
- (A) صدر مدرس کی
(B) معلم کی
(C) منتظمین کی
(D) حکومت کی
- 52- مولانا آزاد نیشنل اردو یونیورسٹی حیدرآباد کے موجودہ چانسلر کون ہیں؟
- (A) پروفیسر عین الحسن
(B) شری ممتاز علی
(C) تمیلی سائی سنڈر راجن
(D) پروفیسر اختر صدیقی
- 53- نئی قومی تعلیمی پالیسی 2020 میں کس بات کی سفارش کی گئی ہے؟
- (A) یک لسانیت
(B) ذولسانیت
(C) سہ لسانیت
(D) کثیر لسانیت

- 54- تعین قدر کے ضمن میں قومی تعلیمی پالیسی 2020 میں طلباء کے لیے کس طرح کے رپورٹ کارڈ کی سفارش کی گئی ہے؟
- (A) معروضی رپورٹ کارڈ (B) موضوعی رپورٹ کارڈ
(C) یک جہتی رپورٹ کارڈ (D) کثیر جہتی رپورٹ کارڈ
- 55- یہ مشاہدہ کیا گیا ہے کہ موجودہ دور میں عمومی طور پر اساتذہ کے عزت و وقار میں تنزلی آئی ہے۔ اس کی بازیابی کے لیے اساتذہ کو کیا کرنا چاہئے؟
- (A) وہ اس پیشے میں مادہ پرستی کو غالب نہ آنے دیں (B) وہ اپنے فرائض کو ایمانداری کے ساتھ انجام دیں
(C) وہ اپنے برتاؤ میں تبدیلی لائیں (D) وہ اپنے رویے اور اقدار میں اصلاح کریں
- 56- کمرہ جماعت میں طلباء کی توجہ مرکوز کرنے کے لیے آپ کیا کریں گے؟
- (A) سوال پوچھیں گے (B) ڈسٹر سے ٹیبل ٹھوکیں گے
(C) بہترین تقریر کریں گے (D) تیز آواز میں بولیں گے
- 57- تدریس میں مختلف طریقوں کا استعمال کرنے کی وجہ یہ ہے کہ اس سے ---
- (A) طلباء کی توجہ مرکوز ہوتی ہے (B) طلباء کو اچھی طرح سمجھ میں آتا ہے
(C) تدریس دلچسپ ہو جاتی ہے (D) طلباء کے انفرادی تفاوت کی تسکین ہوتی ہے
- 58- مسلسل تشبیہ کرنے کے بعد بھی اگر ایک طالب علم اسکول یونیفارم پہن کر نہیں آتا ہے تو آپ بطور استاد کیا کریں گے؟
- (A) طالب علم کو سزا دیں گے (B) صدر مدرس سے اس طالب علم کی شکایت کریں گے
(C) وجہ جاننے کی کوشش کریں گے (D) یونیفارم کے فائدے بتائیں گے
- 59- تعلیم پر افضل حسین (ایم۔ اے۔ ایل۔ ٹی۔) کی مشہور کتاب درج ذیل میں سے کس عنوان پر ہے؟
- (A) رہنمائے تعلیم (B) رہنمائے تدریس
(C) فن تدریس (D) فن تعلیم و تربیت
- 60- دو اہل علم دیوبند، سہارن پور کا قیام کس کے ذریعے کیا گیا؟
- (A) علامہ شبلی نعمانی (B) محمد قاسم نانوتوی
(C) پیر سعید میاں (D) مولانا علی میاں
- 61- این۔ سی۔ ای۔ آر۔ ٹی۔ نئی دہلی کا قیام کب عمل میں آیا؟
- (A) 1950ء میں (B) 1961ء میں
(C) 1976ء میں (D) 1986ء میں

- 62- آئین کی کس دفعہ میں لسانی اور مذہبی اقلیتوں کو اپنی دلچسپی کے تعلیمی اداروں کے قیام اور ان کے انتظام و انصرام کا حق دیا گیا ہے؟
- (A) دفعہ 45 میں (B) دفعہ 42 میں
(C) دفعہ 30 میں (D) دفعہ 20 میں
- 63- مردم شماری 2011ء کے مطابق بھارت میں ناخواندہ خواتین کی شرح کتنی ہے؟
- (A) 34.56 فیصد (B) 44.64 فیصد
(C) 55.36 فیصد (D) 65.46 فیصد
- 64- کستور باگاندھی تعلیمی منصوبہ کب شروع کیا گیا؟
- (A) جولائی 2002ء (B) اگست 2004ء
(C) ستمبر 2006ء (D) اکتوبر 2008ء
- 65- بیٹی بچاؤ، بیٹی پڑھاؤ اسکیم کب شروع کی گئی؟
- (A) 2000ء میں (B) 2005ء میں
(C) 2010ء میں (D) 2015ء میں
- 66- بھارت میں 'قومی یوم تعلیم' کب منایا جاتا ہے؟
- (A) 05، ستمبر (B) 24، جنوری
(C) 05، اکتوبر (D) 11، نومبر
- 67- درج ذیل میں کس نے یو۔ پی۔ ایس۔ سی۔ 2021 امتحان میں اول مقام حاصل کیا تھا؟
- (A) شبنم کمار (B) جاگرتی اوستھی
(C) انکیتا جین (D) ممتیادو
- 68- SAWAYAM کیا ہے؟
- (A) غیر سرکاری ادارہ (B) مرکزی یونیورسٹی
(C) آن لائن سافٹ ویئر (D) آن لائن کورس پلیٹ فارم
- 69- استاد کارویہ طلباء کے تئیں کیسا ہونا چاہئے؟
- (A) غیر معمولی (B) جمہوری
(C) آمرانہ (D) آزادانہ

-70 طلبہ کی زندگی کا سب سے نازک دور کون سا ہے؟

- (A) شیرخوارگی
(B) طفولیت
(C) عنفوان شباب
(D) چہنگلی

(General Mental Ability) عمومی ذہنی آزمائش

9,16,25,36,49,64,..... -71

- (A) 76
(B) 81
(C) 99
(D) 111

99,80,63,48,35,..... -72

- (A) 22
(B) 14
(C) 24
(D) 16

10,8,20,16,30,24,?,? -73

- (A) 40,32
(B) 42,44
(C) 50,64
(D) 64,50

225,196,169,144,121,..... -74

- (A) 91
(B) 100
(C) 81
(D) 80

1,9,25,49,81,121,? -75

- (A) 151
(B) 159
(C) 163
(D) 169

-76 B,C,D,E میں کون مختلف ہے؟

- (A) B
(B) C
(C) D
(D) E

85- کسی پینک پر جانے کے لیے طلباء کو جملہ 6,000 روپے جمع کرنا ہے۔ اگر طلباء کی کل تعداد 15 ہے تو ہر بچے کو کتنے روپے جمع کرنے ہوں گے؟

- 600 (A)
640 (B)
460 (C)
400 (D)

86- کسی علامتی زبان میں This is a man کو 4213 ، This is a girl کو 4215 اور Girl is Beautiful کو 528 لکھتے ہیں۔ اس زبان میں girl کے لیے کس عدد کا استعمال کیا گیا ہے؟

- 5 (A)
2 (B)
8 (C)
3 (D)

87- درج ذیل میں سے کون سی شہ باقی سے مختلف ہے؟

- چاک (A)
ڈسٹر (B)
تختہ سیاہ (C)
معلم (D)

88- درج ذیل میں سے کون سی عدد باقی سے مختلف ہے؟

- 47 (A)
17 (B)
27 (C)
37 (D)

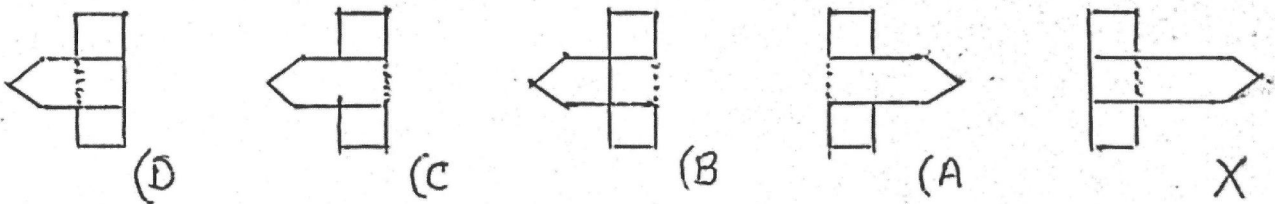
89- میری والدہ کے والد کی اکلوتی بیٹی کے شوہر کے والد کے اکلوتے بیٹے کی اکلوتی بیٹی سے میرا کیا رشتہ ہوگا؟

- والدہ (A)
خالہ (B)
پھوپھی (C)
بہن (D)

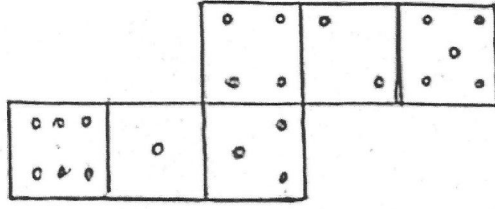
90- میرے دائیں جانب اسپتال، سامنے جانب مسجد اور بائیں جانب چائے کی دوکان ہے۔ آمنے سامنے کیا ہوگا؟

- مسجد اور اسپتال (A)
اسپتال اور چائے کی دوکان (B)
چائے کی دوکان اور مسجد (C)
اسکول اور چائے کی دوکان (D)

91- درج ذیل چار متبادل میں سے اس شکل کی شناخت کیجیے جو شکل X کی شفاف شیٹ کو نقطہ دار خط سے موڑنے پر بنے گی؟



92- اگر درج ذیل شکل سے مکعب بنایا جائے تو تین نقاط کے برعکس سطح پر کتنے نقاط ہوں گے؟



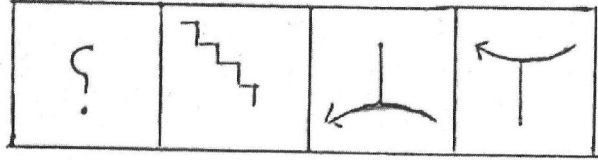
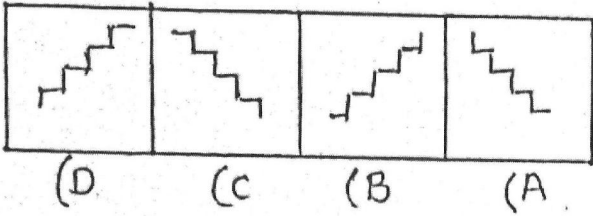
4 (B)

2 (A)

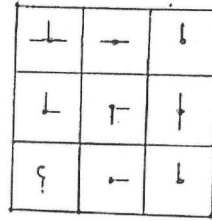
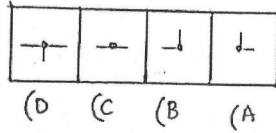
6 (D)

5 (C)

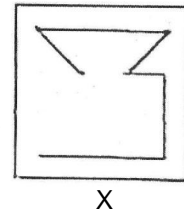
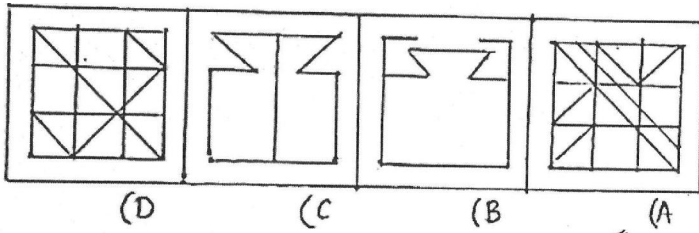
93- درج ذیل چار متبادل اشکال میں سے کون سی شکل مسئلے کے سوالیہ نشان کی جگہ پر رکھنے سے اسے مناسب طریقے سے پر کریگی؟



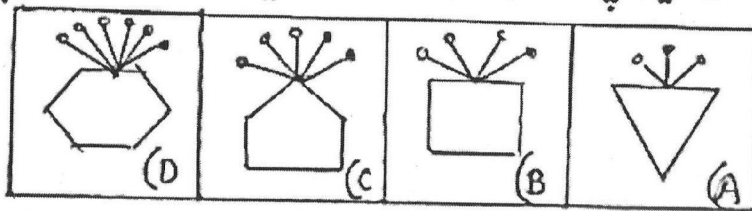
94- درج ذیل چار متبادل میں سے کون سی شکل میٹرکس کو مکمل کرے گی؟



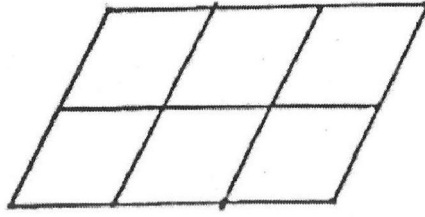
95- درج ذیل چار متبادل میں سے کس میں شکل X شامل ہے؟



96- درج ذیل چار اشکال میں سے کون سی ایک دیگر سے مختلف ہے؟



97- درج ذیل شکل میں کتنے متوازی الاضلاع ہیں؟



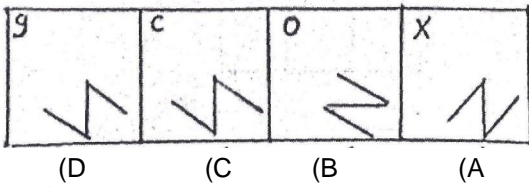
14 (B)

12 (A)

18 (D)

16 (C)

98- درج ذیل چار جوائی متبادل میں سے اس مناسب شکل کا انتخاب کیجیے جو مسئلے کی شکل کی ترتیب کو آگے جاری رکھ سکے۔

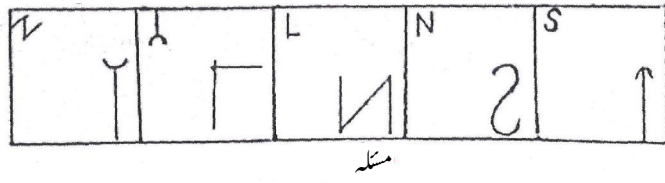


(D)

(C)

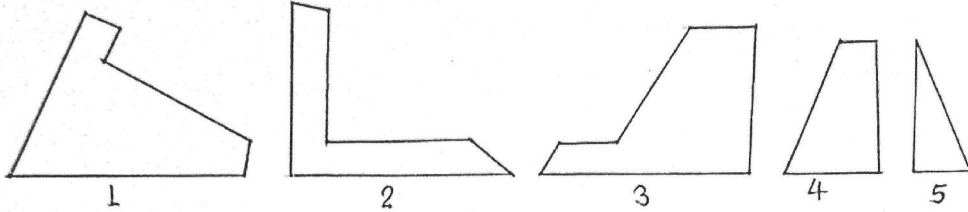
(B)

(A)



مسئلہ

99- درج ذیل پانچ اشکال میں سے ان تین اشکال کی شناخت کیجیے جنہیں ایک دوسرے کے ساتھ نصب کیئے جانے پر ایک مربع کی شکل بن جائے۔



1

2

3

4

5

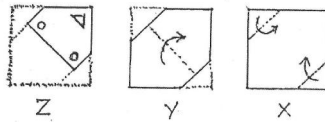
124 (B)

123 (A)

145 (D)

135 (C)

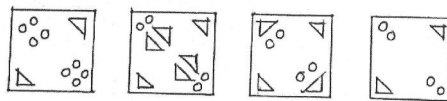
100- ایک کاغذ کے ٹکڑے کو ذیل میں دکھائے گئے تین مراحل X، Y اور Z کے مطابق موڑا گیا اور پھر اسے تصویر Z کے مطابق کاٹ کر اس کی یہ کھولی گئیں۔ درج ذیل چار متبادل میں سے اس شکل کی نشاندہی کیجیے جو تمام یہ کھولنے کے بعد نظر آئیگی۔



Z

Y

X



(D)

(C)

(B)

(A)

