

دستخط نگران کار

Booklet Serial No.

مولانا آزاد نیشنل اردو یونیورسٹی

انٹرنس ٹسٹ برائے ڈی ایل۔ ایڈ 2023

D. El.Ed. Entrance Test 2023

کتابچہ پرچہ سوالات Question Paper Booklet

نمبرات : 100

Hall Ticket No.

وقت : دو گھنٹے

OMR Serial No.

امیدواروں کے لیے ہدایات

نوٹ: یہ کتابچہ چار حصوں پر مشتمل ہے۔ حصہ الف (A) عام معلومات (General Knowledge)، عمومی اردو (General Urdu)، عمومی انگریزی (General English) اور حصہ ب (B) تدریسی رجحان (Teaching Aptitude) اور عمومی ذہنی آزمائش (General Mental Ability) پر مشتمل ہے۔

1. اوپر فراہم کی گئی جگہ پر امیدوار اپنا OMR اور ہال ٹکٹ نمبر لکھیں۔ اس کے علاوہ کتابچے میں کسی بھی صفحے پر ہال ٹکٹ نمبر، OMR نمبر یا اپنا نام نہ لکھیں۔
2. یہ پرچہ سوالات کل 16 صفحات پر مشتمل ہے۔ آخر کا ایک صفحہ Rough Work کے لیے ہے۔ اگر اس کتابچے میں صفحات کم ہوں یا اس کی ترتیب میں کوئی غلطی ہو تو جوابات لکھنے سے پہلے ہی نگران کار سے اسے تبدیل کروالیں۔
3. اس کتابچے میں جملہ 100 معروضی سوالات ہیں۔ ہر سوال کے نیچے 4 متبادل (A) (B) (C) (D) جوابات دیے گئے ہیں۔ سوال کے صحیح جواب کا انتخاب کیجیے۔ پھر OMR جوابی بیاض میں اپنے منتخب کردہ جواب کے دائرے کو صرف Blue / Black Ballpoint Pen سے گہرا کیجیے۔

4. امیدوار کو نمبرات صرف OMR جوابی بیاض میں صحیح جواب دینے پر دیے جائیں گے۔ اگر اس کتابچے میں امیدوار نے جواب پر نشان لگایا ہو لیکن OMR میں دائرے کو گہرا نہ کیا ہو تو ایسی صورت میں امیدوار کو کوئی نمبر نہیں ملے گا۔
5. اگر ایک سے زیادہ دائروں کو گہرا کیا گیا ہو تو اس سوال کے نمبر نہیں ملیں گے۔
6. غلط جواب پر کوئی Negative Marks نہیں ہے۔
7. انٹرنس ٹسٹ کے اختتام پر امیدوار کتابچہ پرچہ سوالات اپنے ساتھ لیجا سکتے ہیں۔

☆☆☆

حصہ الف (Part - A)
عام معلومات - General knowledge

- 1- عدالت عظمیٰ (Supreme Court) کے Judges کو عہدے کا حلف کون دلاتا ہے؟
- (A) چیف جسٹس اف انڈیا
(B) صدر جمہوریہ ہند
(C) نائب صدر جمہوریہ ہند
(D) وزیر اعظم
- 2- بین الاقوامی یوم خواندگی (Word Literacy Day) منایا جاتا ہے۔
- (A) 5 ستمبر
(B) 8 ستمبر
(C) 21 جون
(D) 22 جولائی
- 3- پلاننگ کمیشن اف انڈیا (Planning Commission of India) کا قیام کب عمل میں آیا؟
- (A) 1947
(B) 1956
(C) 1951
(D) 1962
- 4- ازلان شاہ کب کس کھیل سے جڑا ہے؟
- (A) ہاکی
(B) فٹ بال
(C) کرکٹ
(D) کبڈی
- 5- چین مذہب کے آخری تیر تھا کرتھے۔
- (A) وردھمان مہاویر
(B) آدی ناتھ
(C) رشبھ ناتھ
(D) پاروناتھ
- 6- تاج محل کو کس گیس سے نقصان پہنچ رہا ہے؟
- (A) Sulpur Dioxide
(B) Chlorine
(C) Hydrogen
(D) Nitrogen
- 7- کون سا ملک کرکٹ ورلڈ کپ 2023 کی میزبانی کرے گا؟
- (A) پاکستان
(B) سری لنکا
(C) آسٹریلیا
(D) ہندوستان

- 8- آزاد ہندوستان میں پہلا ہندوستانی کون تھا جس نے انفرادی اولمپک مقابلہ میں تمغہ جیتا؟
- (A) دھیان چند (B) کے ڈی جادھو
(C) پرتھویپال سنگھ (D) ہریش چندر بیرا جرار
- 9- زمین کا اندرونی حصہ جہاں سے زلزلے کی شروعات ہوتی ہے؟
- (A) Epicentre (B) Hypocentre
(C) Epocentre (D) Hypercentre
- 10- نیکانہ صاحب گردوارہ کس ملک میں واقع ہے؟
- (A) پاکستان (B) ہندوستان
(C) بنگلہ دیش (D) ایران
- 11- NIA کا پورا نام ہے۔
- (A) National Indian Authority (B) National Investigation Authority
(C) National Investigation Agency (D) National Indian Agency
- 12- ہندوستان کے آخری مغل بادشاہ کون تھے؟
- (A) شاہجہاں (B) ہمایوں
(C) بہادر شاہ ظفر (D) اورنگ زیب
- 13- اٹلی کی کرنسی کون سی تھی؟
- (A) پونڈ (B) لیرا
(C) ڈالر (D) یان
- 14- Q انسولین (Insulin)..... ہے۔
- (A) Vitamin (B) Lipid
(C) Hormone (D) Enzyme
- 15- ہندوستان میں "Birdman of India" کا لقب کس کو دیا گیا؟
- (A) ڈاکٹر ہمایوں کبیر (B) ڈاکٹر عاصف اقبال
(C) ڈاکٹر سلیم علی (D) ڈاکٹر عارف علی

16- زمین کی سطح سے قریب ترین فضائی پرت ہے۔

- Stratosphere (B) Troposphere (A)
Thermosphere (D) Mesosphere (C)

17- ہندوستان کی پہلی جامعہ برائے خواتین (Women University) کون سی ہے؟

- Vanasthali Vidyapith (B) Mother Teresa Women University (A)
SNDT (D) Sri Padmavati Mahila Vishwavidyalaya (C)

18- بلبل ہند (Nightingale of India) کسے کہا جاتا ہے؟

- وہجے لکشمی پنڈت (B) مدرتیریا (A)
سروجنی نائیڈو (D) اندرا گاندھی (C)

19- ”انقلاب زندہ باد“ کا نعرہ کس نے دیا؟

- حسرت موہانی (B) محمد اقبال (A)
رام پرساد بھیل (D) مہاتما گاندھی (C)

20- نیلا انقلاب (Blue Revolution) کس کو فروغ دینے کے لیے رائج کیا گیا؟

- دودھ (B) مچھلی (A)
چاول (D) گیہوں (C)

عمومی اردو (Genral Urdu)

21- درخواست کا معنی کیا ہے؟

- مشورہ (B) حکم (A)
فرمان (D) گذارش (C)

22- حکیم کی جمع:

- احکام (B) حکماء (A)
احکم (D) حکام (C)

- 23- ”شیر و شکر“ میں دو الفاظ کا جوڑ ہے جو:
- (A) باہم مترادف ہیں
(B) باہم متضاد ہیں
(C) دونوں اسم ہیں
(D) دونوں صفت ہیں
- 24- ذیل میں مرکب لفظ کی مثال ہے:
- (A) بجلی
(B) قابل قدر
(C) ہاتھی
(D) نکما
- 25- سرفروشی سے مراد ہے؟
- (A) خود اعتمادی
(B) شادمانی
(C) جانبازی
(D) سر جھکانا
- 26- خلوت کی ضد:
- (A) آرام کی جگہ
(B) آرام دہ محل
(C) تنہائی
(D) جلوت
- 27- مندرجہ ذیل میں سے بادشاہ بہادر شاہ ظفر کے استاد کون تھے؟
- (A) شیفتہ
(B) مومن
(C) ذوق
(D) شاہ نصیر
- 28- ناول ”ایک چادر میلی سی“ کس نے لکھی ہے؟
- (A) ڈپٹی نظیر احمد
(B) نظیر اکبر آبادی
(C) علامہ شبلی نعمانی
(D) راجندر سنگھ بیدی
- 29- میر انیس کا تعلق اردو کی کس صنف سے ہے؟
- (A) مرثیہ
(B) رباعی
(C) ہجو
(D) قصیدہ
- 30- لفظ شاندار جاندار ایماندار میں دار کو کیا کہتے ہیں؟
- (A) سابقہ
(B) لاحقہ
(C) قاعدہ
(D) فائدہ

(Genral English) عمومی انگریزی

Rearrange the words to form a meaningful sentence.

31. time/wait/none/for/tide/and

- (A) tide and time for wait none (B) time and wait tide for none
(C) time and tide wait for none (D) for time and tide none wait

32. Which of the following is an example of abstract noun?

- (A) Iron (B) Muneer
(C) Book (D) Scenery

33. Azam and Sameer are friends. I always call true frinds.

- (A) Them (B) They
(C) Their (D) Theirs

34. Do you know the saying' grass is always greener on other side'?

- (A) the/the (B) the/an
(C) no article/the (D) no article/no article

35. My pencil case is the bookshelf over there.

- (A) at (B) up
(C) on (D) with

36. Choose the right question tag.

You do not fight in the University ?

- (A) Don't you (B) Are you
(C) Does you (D) Do you

37. We discussed of this smart phone.

- (A) Ups and ends (B) Pros and Cons
(C) Ups and downs (D) None of these

38. Choose the correct option for collective nouns.

Collective Noun	Word
Army	
Band	
Collection	
Flight	

- (A) singers, soldiers, stamps, stairs (B) stairs, soldiers, singers, stamps
(C) stamps, singers, soldiers, stairs (D) soldiers, singers, stamps, stairs

39. Which of the following is not the correct degree of comparison?

- (A) Interesting (B) more interesting
(C) very interesting (D) most interesting

40. Arrange the following in descending order.

- (A) river, stream, sea, ocean (B) stream, ocean, sea, river
(C) sea, river, ocean, stream (D) ocean, sea, river, stream

حصہ (Part-B)

تدریسی رجحان (Teaching Aptitude)

41- نرسری تریب کا اہم مقصد:

- (A) بچوں کے والدین کو وقت فراہم کرنا
(B) بچوں کو حروف تہجی سکھانا
(C) بچوں کو سماجی انسان کے جوش و جذبہ کو ایک راہ پر لانا
(D) گھروں کی یک سری کو دور کرنا

42- تعلیمی میدان میں Dyslexia کا تصور:

- (A) طالب علم کا حروف اور ان کی آواز کو پہچاننے میں کمزور ہونا
(B) حسابی صلاحیتوں میں کمزور ہونا
(C) کمزور یادداشت
(D) یہ سبھی

43- موثر ترین اکتساب (Effective Learning) اس صورت میں عمل میں آتا ہے جب طالب علم:

- (A) پڑھتا ہے (مطالعہ کرتا ہے)
(B) سنتا ہے
(C) دیکھتا اور سنتا ہے
(D) بولتا اور کرتا ہے

- 44- دوران تدریس ایک معلم کو طلبا کی سبق میں دلچسپی قائم رکھنے اور ان کی صلاحیتوں کی ہمت افزائی کے لیے مندرجہ ذیل طرز اپنانا چاہیے۔
- (A) لفظی اشارات (Word Clue) دینا (B) طالب کے جواب کو رد کر دینا
(C) طلبا کے جوابات پر کوئی رد عمل ظاہر نہ کرنا (D) سبق کی جانب توجہ کی تلقین کرنا
- 45- استاد کی تربیت اور دوسرے تعلیمی امور سے متعلق ایک اہم قومی ادارہ:
- (A) UGC (B) NCTE
(C) NIEPA (D) NCERT
- 46- تعلیم کو دستور کی اس فہرست میں شامل کیا گیا ہے۔
- (A) مرکزی فہرست (B) ریاستی فہرست
(C) مشترکہ فہرست (D) رہنمایانہ اصول
- 47- Remedial تدریس حسب ذیل کس قسم کے طالب علموں کے لیے دی جاتی ہے؟
- (A) وہ طلبا جو تعلیم میں کمزور ہوتے ہیں (B) وہ طلبا جو ہوم ورک نہیں کرتے
(C) وہ طلبا جو بہت ذہین ہوتے ہیں (D) وہ طلبا جو اسکول کو دیر سے آتے ہیں
- 48- IASE کیا ہے؟
- (A) سائنسی تحقیق کے ادارے (B) تعلیم و تربیت کے مخصوص ترقی یافتہ ادارے
(C) مرکزی سطح کے تعلیمی ادارے (D) ریاستی سطح کے تعلیمی ادارے
- 49- طالب علم بہتر طور پر سیکھتا ہے۔ جب:
- (A) اس کی غلطیوں پر سزا دی جاتی ہے (B) سخت کوچنگ دی جاتی ہے
(C) اس کی تحصیل علم کا احترام کیا جاتا ہے (D) انگریزی کے بجائے دیگر زبانوں میں تعلیم دی جاتی ہے
- 50- بچوں میں اچھے اخلاق و اقدار کو فروغ دینے کے لیے ایک استاد کا سب سے موزوں طریقہ:
- (A) استاد خود اچھے اخلاق کا عملی نمونہ پیش کرے (B) اہم اقدار پر مبنی کہانیاں سنائے
(C) مذہبی و اخلاقی تعلیم کے لیے نظام الاوقات (Time Table) میں گھنٹے (Periods) مقرر کرے (D) والدین کی اخلاقی رہنمائی کرے
- 51- ہندوستان میں مکمل خواندگی کے حصول میں ناکامی کی اہم وجہ یہ ہے:
- (A) فنڈز کی کمی (B) فنڈز کے استعمال کی عدم صلاحیت
(C) مناسب سہولیات کا فقدان (D) مقصد کے حصول کی خواہش کا فقدان

52- اصطلاح 'Kindergarten' کا مطلب:

- (A) بچوں کا گھر
(B) بچوں کا باغ
(C) بچوں کا اسکول
(D) ان میں سے کوئی نہیں

53- اسکول میں ”مڈے میل“ اسکیم:

- (A) ریاستی حکومت کی اسکیم
(B) مرکزی حکومت کی اسکیم
(C) UGC کی اسکیم
(D) UNICEF کی اسکیم

54- اسکول میں آپ کے کچھ طلباء بدتمیزی کرتے ہیں تو آپ کو:

- (A) پرنسپل سے شکایت کرنا چاہیے
(B) طلباء کے والدین کو بتانا چاہیے
(C) استاد کو اپنے کردار کے ذریعے طلباء کے طرز عمل کو بہتر بنانا چاہیے
(D) ان طلباء کے خلاف دوسرے استادوں کو شکایت کرنا چاہیے

55- طلباء کی غیر حاضری کم کرنے کے لیے معلم کو:

- (A) اسکول میں خصوصی پروگرام منعقد کرنا چاہیے
(B) طلباء کو سخت سزا دینا چاہیے
(C) بچوں سے تعلقات بڑھانا چاہیے
(D) طلباء کے والدین سے بات کرنی چاہیے

56- طلباء کی ترقی کی جانچ کب کرنا مناسب ہے۔

- (A) سال بھر
(B) سال میں ایک بار
(C) سال میں دو بار
(D) سہ ماہی

57- تعلیم کا مقصد ہے:

- (A) سماج میں پھیلی برائیوں کو دور کرنا
(B) بچے کی ہمہ جہت نشوونما کرنا
(C) امتحان میں کامیابی حاصل کرنا
(D) سرکاری ملازمت حاصل کرنا

58- طلباء میں اقدار کو پروان چڑھانے کا بہترین طریقہ کار ہے۔

- (A) معلم عظیم شخصیات سے متعلق گفتگو کرتا ہے اور اس کی سوانح پڑھاتا ہے
(B) معلم باقاعدگی سے اخلاقی تعلیم کی کلاس منعقد کرتا ہے
(C) معلم اپنے عمل میں مطلوبہ اخلاقی اقدار کو برتنا ہے اور عملی نمونہ پیش کرتا ہے
(D) معلم کردار کے اچھے مظاہرے کے لیے انعام و اکرام کا اعلان کرتا ہے

59- طلباء پر تعلیمی بوجھ کے معاملے کی جانچ..... کے ذریعے کی گئی تھی۔

- (A) مدلیار کمیشن
(B) کوٹھاری کمیشن
(C) ایٹور بھائی ٹیل کمیٹی
(D) لیش پال کمیٹی

- 60- Eklavya اسکول کا قیام ”مرکزی حکومت“ کن طلباء کے لیے کی ہے؟
 (A) کمزور (B) ذہین
 (C) اقلیتی (D) ایس ٹی
- 61- کستور باگاندھی تعلیمی منصوبہ کب شروع کیا گیا؟
 (A) جولائی 2002ء (B) اگست 2004ء
 (C) ستمبر 2006ء (D) اکتوبر 2008ء
- 62- آپ معلم کا پیشہ اپنانا چاہتے ہیں، کیونکہ:
 (A) یہ ایک آسان اور کم محنت والا پیشہ ہے
 (B) مجھے تدریسی پیشہ میں دلچسپی ہے
 (C) اس پیشہ میں بولنے کے بہت زیادہ مواقع ہیں
 (D) معلم کی تنخواہ میں اضافہ کر دیا ہے
- 63- طالب علم کسی سوال کا غلط جواب دیتا ہے تو درج ذیل میں سے کیا کرنا چاہیے۔
 (A) اس پر غصہ کریں گے
 (B) جواب کیوں غلط ہے اس کو واضح کریں گے
 (C) غلط جواب بتانے پر دوسرا سوال پوچھیں گے
 (D) کسی دوسرے طالب علم سے صحیح جواب پوچھیں گے
- 64- SUPW کس کا مخفف ہے؟
 (A) Socially Useful Productive Work
 (B) Socially Useful Paper Work
 (C) Socially Utilized Paper Work
 (D) Socially Uniform Product Work
- 65- گھر کا کام (Home Work) دینے سے طلباء میں:
 (A) آسانی سے کر کے سیکھنے کا خیال پیدا ہوتا ہے
 (B) سوچنے کی صلاحیت کو فروغ ملتا ہے
 (C) دوسروں پر منحصر ہونے کے قابل ہو جاتا ہے
 (D) مشکل نہ ہونے کا خیال پیدا ہوتا ہے
- 66- چھوٹے بچوں کے لیے تعلیم کا ذریعہ ہونا چاہیے۔
 (A) مادری زبان
 (B) انگریزی زبان
 (C) علاقائی زبان
 (D) قومی زبان
- 67- ان میں سے کون سا عنصر (Factor) تدریس پر اثر انداز نہیں ہوتا ہے؟
 (A) تجربہ کے ذریعہ سیکھنا
 (B) معلم و طالب علم کی سماجی و معاشی حالات
 (C) معلم کا علم
 (D) کمرہ جماعت کی اکتسابی سرگرمیاں

Samagra Shiksha -68 میں کون شامل نہیں ہے؟

- Sarva Shiksha Abhiyan (B) Teacher Education (A)
Rashtriya Uchar Shiksha Abhiyan (D) Rashtriya Madhyamik Shiksha Abhiyan (C)

"EDUSAT" کو کب لائیج کیا گیا؟ -69

- 20 ستمبر 2004 (B) 20 ستمبر 2003 (A)
21 ستمبر 2004 (D) 25 ستمبر 2003 (C)

29 اکتوبر 2004ء کو حکومت ہند نے مذہبی ولسانی اقلیتوں سے متعلق مختلف معاملات کا جائزہ پیش کرنے کے لیے مندرجہ ذیل کی تشکیل کی تھی۔ -70

- سچر کمیٹی (A) رنگنا تھ مشرا کمیشن (B)
نیشنل کمیشن فار مینارٹیز (C) نیشنل کمیشن فار مینارٹیز ایجوکیشنل انسٹی ٹیوشنس (D)

عمومی ذہنی آزمائش (General Mental Ability)

JAF, JEF, JIF, JOF,?..... -71

- EAJ (B) JAE (A)
JUF (D) POF (C)

8, 9, 64, 25, 216?..... -72

- 81 (B) 49 (A)
144 (D) 121 (C)

7 : 21 :: 9 :?..... -73

- 37 (B) 27 (A)
52 (D) 41 (C)

IM : RZ :: HF :?..... -74

- PL (B) MP (A)
QR (D) OK (C)

75- فرمان لڑکوں کی صف کے دونوں سرے سے 18 ویں نمبر پر ہے؟ اس قطار میں کتنے لڑکے ہیں؟

32 (B) 26 (A)

35 (D) 30 (C)

76- موٹر گاڑی : پہیہ :: :

(A) کہکشاں : ستارہ (B) سر : چشم

(C) سپاہی : رجمنٹ (D) ہاتھ : پاؤں

77- Odd لفظ کو پہچانیے۔

(A) انڈیا (B) افریقہ

(C) یورپ (D) آسٹریلیا

78- A جو ہے وہ 'B' کی بہن ہے 'C' 'B' کی ماں ہے۔ 'D' C کا باپ ہے۔ E جو ہے وہ D کی ماں ہے۔ اس طرح سے A کا D سے کیا رشتہ ہوگا؟

(A) دادی (B) نانا

(C) بیٹی (D) پوتی

79- ACEG ; DFHI :: QSUW :

(A) KMNP (B) MNPR

(C) TQST (D) TVXZ

80- اگر $5 - 5 = 24$ اور $7 - 7 = 48$ تو $10 - 10 = ?$

(A) 80 (B) 98

(C) 95 (D) 99

81- درج ذیل میں Odd کی نشاندہی کیجیے۔

(A) ILO (B) WHO

(C) UNESCO (D) OPEC

82- سوالیہ نشان کی جگہ مناسب ترین عدد لکھیے : 3, 7, 15,?....., 63, 127

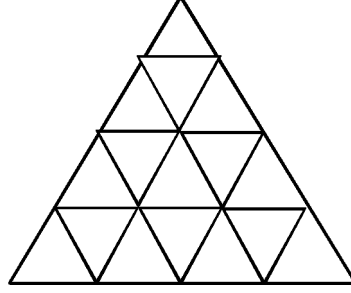
(A) 30 (B) 47

(C) 52 (D) 31

83- اگر آپ 1 سے لے کر 100 تک گنتی لکھیں تو 9 نمبر کتنی مرتبہ آئے گا؟

- 19 (A)
20 (B)
21 (D)
22 (C)

84- دی گئی شکل میں مثلث کی تعداد کتنی ہے؟

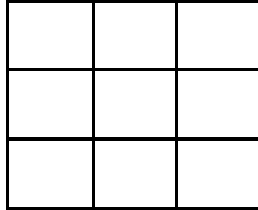


- 25 (B)
27 (A)
31 (D)
29 (C)

85- اگر کسی کوڑکی زبان میں $CAR = 22$ اور $TRUCK = 73$ ہو تب TAXI کا کوڈ کیا ہوگا؟

- 52 (A)
54 (B)
62 (C)
64 (D)

86- دی گئی شکل میں کتنے مربع ہیں:



- 9 (A)
10 (B)
14 (C)
18 (D)

87- اس ○ (Figure) کا Value اس □ (Figure) کے Value سے چار گنا زیادہ ہے۔

اس ○ (Figure) کا Value کیا ہوگا اگر □ -37 برابر ہے 55 کے (یعنی $55 = -37 - □$)

- 368 (B)
638 (A)
336 (D)
836 (C)

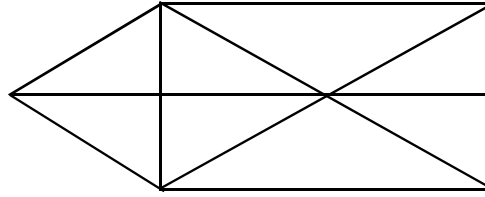
-88 دی گئی سیریز کو مکمل کرنے والے نمبر کو منتخب کریں۔

0, 7, 26, 63, 124, 215, 342, 511, 728?

- 999 (B) 990 (A)
1001 (D) 1000 (C)

-89 دی ہوئی شکل میں مثلث کی تعداد کتنی ہے؟

- 13 (B) 12 (A)
15 (D) 14 (C)



-90 ذیل میں غائب عدد کیا ہوگا؟

8	18	26
10	?	36
18	24	42

- 24 (B) 6 (A)
8 (D) 26 (C)

-91 'R', 'S' سے بھاری ہے 'Q', 'M' سے ہلکا ہے 'N', 'P' سے بھاری ہے لیکن 'Q' سے ہلکا ہے۔ 'R', 'M' سے بھاری ہے تو کون سب سے

بھاری ہے؟

- P (B) S (A)
R (D) Q (C)

-92 ایٹانگر: ارونا چل پردیش : : امرواتی : : ؟.....

- آندھرا پردیش (B) ہماچل پردیش (A)
مدھیہ پردیش (D) اتر پردیش (C)

- 93- درج ذیل میں Odd کی نشاندہی کیجیے۔
- ASEAN (B) SAARC (A)
FIFA (D) BRICS (C)
- 94- اگر کسی زبان میں MAULANA کو 1 3 1 2 1 1 2 1 1 4 1 لکھا جائے تو AZAD کو کیا لکھا جائے گا؟
- 13241 (B) 12614 (A)
16214 (D) 14125 (C)
- 95- مندرجہ ذیل میں کون مختلف ہے۔
- جام تارا..... جھارکھنڈ (B) ڈگبوی..... آسام (A)
ساسارام..... بہار (D) جوسی مٹھ..... ہماچل پردیش (C)
- 96- EIGHTY : GIEYTH : : OUTPUT :?
- TUOTUP (B) TUOUTP (A)
UOTPUT (D) UTOPTU (C)
- 97- آج سوموار ہے۔ 61 روز کے بعد کون سا دن ہوگا؟
- منگل (Tuesday) (B) سوموار (Monday) (A)
سنیچر (Saturday) (D) اتوار (Sunday) (C)
- 98- 21, 46, 66, 81, 91?.....
- 96 (B) 98 (A)
101 (D) 100 (C)
- 99- کل سے پہلے منگل تھا تو کل کے بعد کون سا دن ہوگا؟
- جمعہ (Friday) (B) اتوار (Sunday) (A)
سنیچر (Saturday) (D) جمعرات (Thursday) (C)
- 100- اگر لفظ COLD کو DPME کے بطور کوڈ کیا جائے تو ZEAL کا کوڈ کیا ہوگا؟
- AFCM (B) AFBM (A)
AFBN (D) AGPM (C)

