

دستخط نگران کار

Booklet Serial No.

مولانا آزاد نیشنل اردو یونیورسٹی

انٹرنس ٹسٹ برائے ڈپلوما ان ایلیمنٹری ایجوکیشن (ڈی ایل ایڈ) 2024

Diploma in Elementary Education (D. El.Ed.) Entrance Test 2024

کتابچہ پرچہ سوالات Question Paper Booklet

نمبرات : 100

Hall Ticket No.

وقت : دو گھنٹے

OMR Serial No.

امیدواروں کے لیے ہدایات

نوٹ: یہ کتابچہ چار حصوں پر مشتمل ہے۔ حصہ الف (A) عام معلومات (General Knowledge)، عمومی اردو (General Urdu)، عمومی انگریزی (General English) اور حصہ ب (B) تدریسی رجحان (Teaching Aptitude) اور عمومی ذہنی آزمائش (General Mental Ability) پر مشتمل ہے۔

1. اوپر فراہم کی گئی جگہ پر امیدوار اپنا OMR اور ہال ٹکٹ نمبر لکھیں۔ اس کے علاوہ کتابچے میں کسی بھی صفحے پر ہال ٹکٹ نمبر، OMR نمبر یا اپنا نام نہ لکھیں۔
2. یہ پرچہ سوالات کل 16 صفحات پر مشتمل ہے۔ آخر کا ایک صفحہ Rough Work کے لیے ہے۔ اگر اس کتابچے میں صفحات کم ہوں یا اس کی ترتیب میں کوئی غلطی ہو تو جوابات لکھنے سے پہلے ہی نگران کار سے اسے تبدیل کروالیں۔
3. اس کتابچے میں جملہ 100 معروضی سوالات ہیں۔ ہر سوال کے نیچے 4 متبادل (A) (B) (C) (D) جوابات دیے گئے ہیں۔ سوال کے صحیح جواب کا انتخاب کیجیے۔ پھر OMR جوابی بیاض میں اپنے منتخب کردہ جواب کے دائرے کو صرف Blue / Black Ballpoint Pen سے گہرا کیجیے۔

4. امیدوار کو نمبرات صرف OMR جوابی بیاض میں صحیح جواب دینے پر دیے جائیں گے۔ اگر اس کتابچے میں امیدوار نے جواب پر نشان لگایا ہو لیکن OMR میں دائرے کو گہرا نہ کیا ہو تو ایسی صورت میں امیدوار کو کوئی نمبر نہیں ملے گا۔
5. اگر ایک سے زیادہ دائروں کو گہرا کیا گیا ہو تو اس سوال کے نمبر نہیں ملیں گے۔
6. غلط جواب پر کوئی Negative Marks نہیں ہے۔
7. انٹرنس ٹسٹ کے اختتام پر امیدوار کتابچہ پرچہ سوالات اپنے ساتھ لیجا سکتے ہیں۔

☆☆☆

حصہ الف (Part - A)
عام معلومات - General knowledge

1. وزیر اعلیٰ (Chief Minister) کو عہدے کا حلف کون دلاتا ہے؟
 - (A) نائب صدر جمہوریہ
 - (B) چیف جسٹس آف انڈیا
 - (C) چیف جسٹس آف ہائی کورٹ
 - (D) ریاستی گورنر
2. تاج محل کس ندی کے کنارے واقع ہے؟
 - (A) گنگا
 - (B) جمنا
 - (C) تاپتی
 - (D) گوداوری
3. بنگلہ دیش کی کرنسی کا کیا نام ہے؟
 - (A) روپیے
 - (B) ڈالر
 - (C) ٹکا
 - (D) دینار
4. Penguin چڑیا کہاں پائی جاتی ہے؟
 - (A) لیٹین امریکہ
 - (B) افریقہ
 - (C) نارٹھ امریکہ
 - (D) انٹارٹیکا
5. دنیا کا سب سے بڑا براعظم ہے؟
 - (A) افریقہ
 - (B) ایشیا
 - (C) امریکہ
 - (D) یورپ
6. شیر شاہ کا مقبرہ کہاں واقع ہے؟
 - (A) پٹنہ
 - (B) اورنگ آباد
 - (C) سہرام
 - (D) حیدر آباد
7. کون سا ملک Fifa ورلڈ کپ کی میزبانی کرے گا؟
 - (A) قطر
 - (B) نارٹھ امریکہ
 - (C) جاپان
 - (D) انگلینڈ

8. کس ریاست کو دکن کا سبز علاقہ کہا جاتا ہے؟
- (A) تلنگانہ
(B) آندھرا پردیش
(C) گجرات
(D) کرناٹک
9. راجپوت سبھا کے رکن کی میعاد ہوتی ہے؟
- (A) چھ سال
(B) پانچ سال
(C) دو سال
(D) مستقل
10. ہندوستان کے آخری بادشاہ بہادر شاہ ظفر کو قید کر کے کس ملک میں بھیجا گیا تھا؟
- (A) برما
(B) نیپال
(C) مالدیپ
(D) چین
11. پاٹلی پتر کا موجودہ نام ہے؟
- (A) لکھنؤ
(B) پٹنہ
(C) آگرہ
(D) بنارس
12. مندرجہ ذیل میں کس ریاست کا رقبہ سب سے بڑا ہے؟
- (A) مہاراشٹرا
(B) مدھیہ پردیش
(C) اتر پردیش
(D) راجستھان
13. کس بادشاہ نے اپنے پایہ تخت (Capital) کو دہلی سے دولت آباد کو منتقل کیا؟
- (A) محمد تغلق
(B) فیروز تغلق
(C) غیاث الدین تغلق
(D) بہادر شاہ
14. راجہ سبھا میں کل اراکین کی تعداد ہوتی ہے؟
- (A) 260
(B) 450
(C) 250
(D) 543
15. کرکٹ کا پہلا ورلڈ کپ کس ملک نے حاصل کیا (1975)؟
- (A) اسٹریلیا
(B) انگلینڈ
(C) ویسٹ انڈیز
(D) انڈیا

16. سبھاش چندر بوس کی فوج کا نام تھا؟
 (A) سبھاش فوج
 (B) آزاد ہند فوج
 (C) انڈین نیشنل آرمی
 (D) وندے ماترم فوج
17. ذیل میں نوبل انعام یافتہ کون ہیں؟
 (A) جنرل ڈائر
 (B) راجہ رام موہن رائے
 (C) سی وی رمن
 (D) رام پرشاد
18. زمین کا تقریباً --- فیصد حصہ پانی سے گھرا ہوا ہے؟
 (A) 72%
 (B) 65%
 (C) 61%
 (D) 71%
19. آنکھوں کی حفاظت کے لیے ضروری ہے؟
 (A) وٹامن B
 (B) وٹامن C
 (C) وٹامن D
 (D) وٹامن A
20. پہلی جنگ عظیم شروع ہوئی؟
 (A) 1814
 (B) 1914
 (C) 1939
 (D) 1919

عمومی اردو (Genral Urdu)

21. فورٹ ولیم کالج کب قائم کیا گیا؟
 (A) 1800
 (B) 1275
 (C) 1870
 (D) 1785
22. مندرجہ ذیل میں کس کا الما غلط ہے؟
 (A) حیات
 (B) ضعیف
 (C) بالآخر
 (D) تالیل

23. لفظ سامع کا معنی ہے؟
 (A) سامنا کر
 (B) سننے والا
 (C) صدر دروازہ
 (D) خاموشی
24. مسدس میں کل کتنے مصرعے ہوتے ہیں؟
 (A) چھ
 (B) پانچ
 (C) سات
 (D) آٹھ
25. کس اردو ادیب کی جائے پیدائش مکہ ہے؟
 (A) سر سید احمد خاں
 (B) محمد حسین آزاد
 (C) ابوالکلام آزاد
 (D) سہیل عظیم آبادی
26. اردو زبان نے----- پر اپنی بنیاد قائم کی؟
 (A) کھڑی بولی
 (B) عربی
 (C) پراکرت
 (D) سنسکرت
27. اردو کس خاندان سے تعلق رکھتی ہے؟
 (A) ماگدھی
 (B) پشاجی
 (C) ہند آریائی
 (D) دراوڑی
28. اردو کس یونیورسٹی کا ذریعہ تعلیم تھا؟
 (A) ممبئی یونیورسٹی
 (B) عثمانیہ یونیورسٹی
 (C) علی گڑھ یونیورسٹی
 (D) مدراس یونیورسٹی
29. مرثیہ کے کیا معنی ہیں؟
 (A) نوحہ کرنا
 (B) خوشی منانا
 (C) بیزارگی
 (D) ناراضگی
30. قافیہ کسے کہتے ہیں؟
 (A) ردیف سے پہلے آنے والے لفظ
 (B) شعر کے آخر میں جس کی تکرار ہو
 (C) شعر کا ابتدائی حصہ
 (D) شعر کا آخری حصہ

(Genral English) عمومی انگریزی

31. Rearrange the following words to form a meaningful sentence.
Cat/let/bag/the/of/out/the
(A) Bag the cat out of the let (B) the cat out of the bag let
(C) Let the cat out of the bag (D) Let the bag out of the cat
32. Which of the following is an example of an adverb?
(A) Man (B) See
(C) Never (D) Would
33. Kalam reads well. I likepronunciation.
(A) her (B) she
(C) him (D) his
34. His car struck a tree;you can still see the mark on tree.
(A) the (B) a
(C) an (D) no article
35. My dad came late..... night yesterday.
(A) in (B) on
(C) of (D) at
36. Sam isn't a good boy,?
(A) isn't he (B) does he
(C) is he (D) aren't he
37. A poor man's life isn't
(A) a bed of roses (B) beat around the bush
(C) crying over spilled milk (D) bolt from the blue
38. Choose the correctly matched verb forms.
(i) put-put-put (ii) write-writted-written
(iii) buy-buyed-bought (iv) come-came-come
(A) i & ii (B) ii & iii
(C) iii & iv (D) i & iv

39. The company has been struggling for years, and things have recently gone from bad to
- (A) baddest (B) badder
(C) worse (D) worst
40. Choose the best synonym for 'profession' from the words given below .
- (A) Decision (B) Truth
(C) Teacher (D) Job

حصہ ب (Part-B)

تدریسی رجحان (Teaching Aptitude)

41. بچہ کے کس پہلو کو جان کر تدریس کو مؤثر بنایا جاسکتا ہے؟
- (A) رنگ روپ (B) امیری
(C) دلچسپی (D) بہادری
42. طلبہ آپ کی تدریس میں دلچسپی نہیں لے رہے ہیں تو آپ؟
- (A) کلاس چھوڑ دیں (B) ان پر توجہ نہ دیں
(C) انہیں توجہ دینے کو کہیں (D) تدریس کے طریقے کو تبدیل کریں
43. اساتذہ کا سب سے اہم کام کیا ہے؟
- (A) کلاس میں نظم و ضبط برقرار رکھنا (B) امتحان لینا
(C) H.W. کا مشق صحیح کرنا (D) تعلیم کو دلچسپ بنانا
44. بنیادی تعلیم کے خیال کا موجد کون ہے؟
- (A) مہاتما گاندھی (B) ذاکر حسین
(C) مولانا آزاد (D) جواہر لال نہرو
45. ایک اچھا استاد وہ ہے جو؟
- (A) فرض شناس ہے (B) ایماندار ہے
(C) سچا ہے (D) وقت کا باند ہے

46. آپ کی تعلیم کامیاب ہوگی اگر؟
 (A) آپ کو ملازمت ملے گی
 (B) آپ کو اطمینان حاصل ہوگا
 (C) لوگ آپ کی عزت و احترام کریں
 (D) دوسرے فائدہ حاصل کریں
47. ایک استاد کس سے سب سے زیادہ سیکھتا ہے؟
 (A) اپنے طلبہ سے
 (B) اپنے ساتھیوں سے
 (C) پرنسپل سے
 (D) ٹریننگ کے دوران اپنے تجربات سے
48. اگر کوئی طالب علم دیر سے کلاس میں آتا ہے تو آپ؟
 (A) اس کو نظر انداز کریں گے
 (B) کلاس میں بیٹھنے کی اجازت نہیں دیں گے
 (C) اس کو سزا دیں گے
 (D) اسے خاموشی سے بیٹھنے کی اجازت دیں گے
49. ٹکنالوجی کی ترقی کے ساتھ مستقبل میں اساتذہ کا کیا رول ہوگا؟
 (A) معلوم فراہم کرنا
 (B) نئی کتابیں لکھنا
 (C) طلبہ کی رہنمائی کرنا
 (D) پڑھانے میں انٹرنیٹ کا استعمال کرنا
50. بچے سب سے پہلے کس سے سیکھتا ہے؟
 (A) خاندان سے
 (B) اسکول سے
 (C) باپ سے
 (D) ماں سے
51. آپ استاد بننا چاہتے ہیں کیوں کہ؟
 (A) آپ کے والدین چاہتے ہیں
 (B) یہ آسان کام ہے
 (C) آپ اس میں دلچسپی رکھتے ہیں
 (D) آپ کو دوسرا کام نہیں ملا
52. تعلیم کے معیار کو کس چیز سے بلند کیا جاسکتا ہے؟
 (A) اچھے استاد کی تقرری
 (B) اسکول میں جسمانی سہولیات فراہم کرنا
 (C) اسکول میں
 (D) اسکول میں کمپیوٹر فراہم کرنا
53. ذیل میں سے کون سی ایجنسی تعلیم کو ریگولیٹ کرتی ہے؟
 (A) Church
 (B) State
 (C) School
 (D) Library

54. تعلیم کے ذریعہ تبدیلی لائی جاتی ہے؟
 Objective (A)
 Attitude (B)
 Values among people (C)
 All of these (D)
55. دستور کی وہ کون سی دفعہ ہے جس کے تحت تعلیم کو مفت اور لازمی قرار دیا گیا ہے؟
 (A) دفعہ 44
 (B) دفعہ 37
 (C) دفعہ 45
 (D) دفعہ 24
56. اگر ایک طالب علم دوران تدریس اشکال بخوبی اُتار رہا ہو تو یہ اس کی صلاحیت کہلائے گی؟
 (A) تخلیقی
 (B) تحقیق
 (C) سائنسی
 (D) بصری
57. نئے الفاظ کو سیکھنے اور سمجھنے کی صلاحیت کس نشوونما کو ظاہر کرتی ہے؟
 (A) اخلاقی نشوونما
 (B) ذہنی نشوونما
 (C) جذباتی نشوونما
 (D) کرداری نشوونما
58. بچہ کے ذریعہ دوسروں جیسے ڈاکٹر، انجینئر، ٹیچر، پولیس وغیرہ بننے کی نقل کرنا نشوونما کی کس خوبی کو بتاتا ہے؟
 (A) نئے خیالات کی نشوونما
 (B) خواہش کا اظہار کرنا
 (C) حساس ہونا
 (D) دلچسپیوں کی نشوونما
59. اگر آپ کے کلاس کے طالب علم شرارتی ہوں تو آپ کیا کریں گے؟
 (A) آپ پرنسپل کو آگاہ کریں گے
 (B) آپ اس کی کلاس میں تعلیم نہیں دیں گے
 (C) آپ ان کی شرارتوں کی وجہ جانیں گے
 (D) آپ ایسے طلبہ کو دوسرے درجہ میں منتقل کریں گے
60. اسکول کی ترقی کے لیے ضروری ہے؟
 (A) پرنسپل اور استاد
 (B) طلبا
 (C) اچھی عمارت
 (D) دیگر سہولیات
61. قومی تعلیمی پالیسی کا مقصد ہے؟
 (A) ابتدائی تعلیم کو یونیورسٹیز تک کرنا
 (B) تعلیم کو پیشہ ور بنانا
 (C) تعلیم کا جائزہ لینا
 (D) سب کو تعلیم کا یکساں موقع فراہم کرنا

- .62 مندرجہ ذیل میں سے کون سا سب سے زیادہ مؤثر طریقہ تدریس ہے؟
 Deductive Method (A)
 Discussion Method (B)
 Lecture Method (C)
 Text Box Method (D)
- .63 قومی سائنس دن کب منایا جاتا ہے؟
 26 فروری (A)
 27 فروری (B)
 28 فروری (C)
 29 فروری (D)
- .64 دوسری تعلیمی پالیسی 1986 کے تحت تعلیم کا ماڈل پیش کیا گیا تھا
 10+2+3 (A)
 5+2+3 (B)
 8+2+3 (C)
 4+2+3 (D)
- .65 NEP 2020 کے تحت تعلیم پر GDP کا کتنا فیصد خرچ کیا جائے گا؟
 6 فیصد (A)
 5 فیصد (B)
 4.43 فیصد (C)
 4.5 فیصد (D)
- .66 NCERT کا فل فارم کیا ہے؟
 National Council of Educational Recruitment and Training (A)
 Nation Council of Educational Research and Training (B)
 National Council for Educational Research and Training (C)
 Nation Committee for Educational Research and Training (D)
- .67 SCERT کا قیام کب عمل میں آیا؟
 1979 (A)
 1989 (B)
 1992 (C)
 1968 (D)
- .68 تعلیم کا مقصد ہے؟
 روزگار کے مواقع فراہم کرنا (A)
 معاشرے میں عزت دلوانا (B)
 زندگی کو آسان بنانا (C)
 شخصیت کو نکھارنا (D)

69. RTE ایکٹ 2009 پارلیمنٹ سے کب پاس ہوا؟

- (A) 4/جون 2009
(B) 4/ستمبر 2009
(C) 4/اپریل 2009
(D) 4/اگست 2009

70. بچے سب سے زیادہ سیکھتے ہیں؟

- (A) سن کر
(B) پڑھ کر
(C) ڈر سے
(D) کر کے

عمومی ذہنی آزمائش (General Mental Ability)

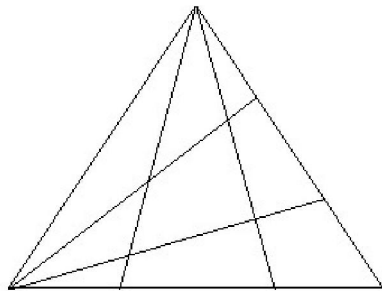
71. اگر METRO = 51، PATNA = 50، DELHI = ----- ہو تب

- (A) 22
(B) 29
(C) 24
(D) 38

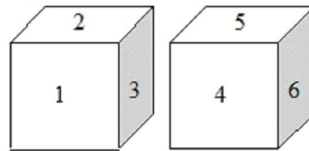
72. ایک شخص نے خاتون سے کہا ”آپ کے بھائی کا بیٹا میری بیوی کا بھائی ہے“ خاتون اس شخص کی بیوی سے کس رشتے میں ہے۔

- (A) بہن
(B) ساس
(C) خالہ یا چاچا
(D) نند

73. دی گئی شکل میں مثلثات کی تعداد

- (A) 28
(B) 64
(C) 27
(D) 125
- 

74. اگر 2 کے مقابل 6 ہے تب 3 کے مقابل ----- ہوگا



- (A) 4
(B) 5
(C) 6
(D) غیر معروف

- .75 سلسلہ کو مکمل کیجیے ---?---12,6,6,9,18,---?
 25 (A) 35 (B)
 29 (C) 45 (D)
- .76 IC : 6 :: DP : --?--
 14 (A) 10 (B)
 11 (C) 17 (D)
- .77 57 : 9 :: 58 :-?--
 19 (A) 15 (B)
 16 (C) 11 (D)
- .78 40 کا کتنا فیصد (Percent) 16 ہوتا ہے
 25% (A) 30% (B)
 35% (C) 40% (D)
- .79 5, 7, 13, 22, 38, --?--
 25 (A) 89 (B)
 65 (C) 64 (D)
- .80 11,31,61,--?--,52
 12 (A) 24 (B)
 02 (C) 15 (D)
- .81 ایک مخصوص زبان میں RATHER کو "TGJUBS" لکھا جاتا ہے تب "SAFETY" کو کیا لکھا جائے گا۔
 AVGBGT (B) AVGHBT (A)
 AVGGBT (D) AVHGBT (C)
- .82 ایک مخصوص زبان میں اگر Bread کو Butter، Butter کو Blood، Blood کو Water، Water کو Cheese اور Cheese کو Toner کہا جائے تب لال رنگ کس کا ہے۔
 Bread (A) Blood (B)
 Water (C) Cheese (D)

83. ایک مخصوص زبان میں "I Know You" کو "Ha Hi He" "I Like French" کو "Ho Hu Ha" اور "You Like Me" کو "He Ho Haa" لکھا جاتا ہے تب اسی زبان میں "Me" کو کیا لکھا جائے گا۔

- Hu (B) Haa (A)
Hi (D) Ha (C)

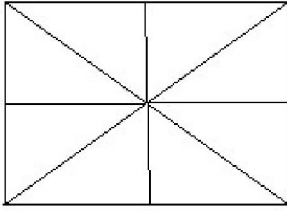
84. 13th April, 1919 کو کون سا دن تھا۔

- (Friday) جمعہ (A) ہفتہ (B) (Saturday)
(Sunday) اتوار (C) پیر (D) (Monday)

85. 1st January, 2006 کو اتوار تھا تو 1st January, 2010 کو کون سا دن تھا۔

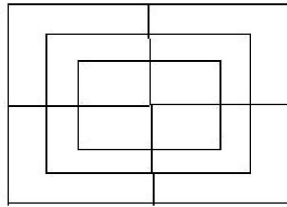
- (Sunday) اتوار (A) ہفتہ (B) (Saturday)
(Friday) جمعہ (C) چہار شنبہ (D) (Wednesday)

86. شکل میں مثلثات کی تعداد۔



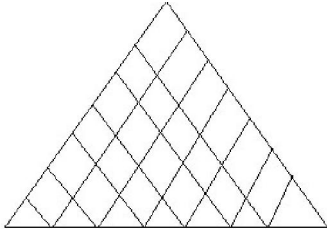
- 16 (B) 08 (A)
11 (D) 09 (C)

87. شکل میں مربعوں کی تعداد معلوم کیجیے۔



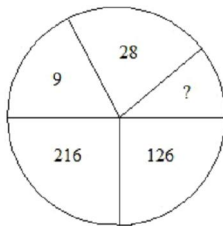
- 05 (B) 03 (A)
15 (D) 12 (C)

88. شکل میں مثلثات کی تعداد معلوم کیجیے۔



- 22 (B) 56 (A)
118 (D) 77 (C)

89. غائب شدہ عدد معلوم کیجیے۔



- 65 (B) 64 (A)
75 (D) 72 (C)

- January : April :: Sunday : ----- .90
- Tuesday (B) Thursday (A)
- Wednesday (D) Monday (C)
- Odd کی نشاندہی کیجیے۔ .91
- MLA (B) وکیل (A)
- گورز (D) میسر (C)
- Odd کی نشاندہی کیجیے۔ .92
- متوازی خطوط (B) حادثہ زائید (A)
- منفرجہ زائید (D) قائمہ الزائید (C)
- Odd کی نشاندہی کیجیے۔ .93
- Eagle (B) Kiwi (A)
- Emu (D) Ostrich (C)
- Odd کی نشاندہی کیجیے۔ .94
- Search (B) Analysis (A)
- Investigation (D) Conclusion (C)
- .95 ایک قطار میں 29 افراد موجود ہیں۔ فرد P، بائیں کونے سے 23rd مقام پر اور فرد Q دائیں کونے سے 25th مقام پر ہے۔ ان افراد P اور Q کے درمیان کتنے افراد ہیں۔
- 19 (B) 47 (A)
- 18 (D) 17 (C)
- .96 گھڑی کے دو کانٹوں کے درمیان کا زاویہ معلوم کیجیے جب کے وقت '8'o' Clock ہو رہا ہو۔
- 120⁰ (B) 140⁰ (A)
- 50⁰ (D) 60⁰ (C)

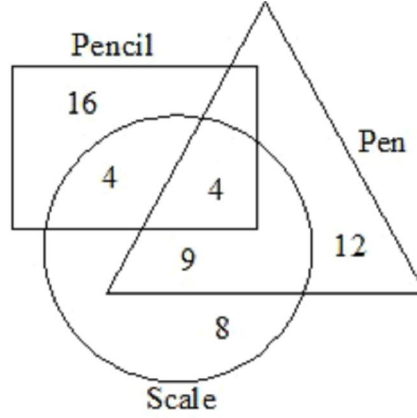
PARENT = ----?----ہوتی ہے INCOME = DOJFNP ، ORANGE = BSPFHO .97

SBQOUF (B)

SBQFOU (A)

SBQUOF (D)

SBQUFO (C)



.98

Pens کی تعداد معلوم کیجیے۔

21 (B)

25 (A)

20 (D)

16 (C)

.99 6 مرد اور 8 خواتین ایک مخصوص کام کو 10 دن میں مکمل کرتے ہیں اسی کام کو 15 مرد اور 20 خواتین کتنے دن میں تکمیل کریں گے۔

4 دن (B)

3 دن (A)

6 دن (D)

5 دن (C)

BYE : DAG :: GDJ : --?-- .100

EBH (B)

ILF (A)

EHB (D)

IFL (C)

Rough Work